

第 27 课 社会主义建设在探索中曲折发展

一. 选择题

1. 1956年在中共八大上，中央副主席陈云提出“三个主体、三个补充”的思想，并得到中共八大肯定和接受。这一经济思想

国家经营和集体经营是工商业的主体……个体经营是国家经营和集体经营的补充。
 全国工农业产品的主要部分是按照计划生产的……是工农业生产的主体，按照市场变化而在国家计划许可范围内的自由生产是计划生产的补充。
 我国市场……是社会主义的统一市场……国家市场是它的主体，但附有一定范围内国家领导的自由市场……作为国家市场的补充，因此它是社会主义统一市场的组成部分。

- A. 客观反映了生产力发展实际 B. 促进了非公有制经济的发展
 C. 开辟了中国式现代化新道路 D. 孕育了经济体制改革的思想

2. 20世纪50年代中期，毛泽东说：“领导我们国家可以采用两种不同的方针，这就是放和收。放，就是放手让大家讲意见，使人们敢于说话……收，就是不许人家说不同的意见……放有百利而无一害；而收是错误的”。材料中所述的“放”有利于

- A. “八字方针”的推行 B. 多种所有制经济发展 C. 文化事业的繁荣 D. 劳动模范作用的发挥

3. 阅读下表：“1957年中共中央关于职工代表大会的指示”，上述指示旨在

时间	指示
3月	《中共中央关于处理罢工罢课问题的指示》要求在企业中试行职工代表大会，作为职工参加企业管理和监督行政的权力机关
4月	《中共中央关于研究有关工人阶级的几个重要问题的通知》提出，将现行的职工代表会议改为职工代表大会，且适当扩大其权力
9月	中央要求在全国范围内推行职代会制度，针对企业生产经营问题，职代会享有参与讨论和提出建议的权利，针对职工生活福利问题，享有可以做出决议的权利

- A. 调整国民经济结构 B. 完善人民代表大会制度 C. 推进经济体制改革 D. 正确处理人民内部矛盾

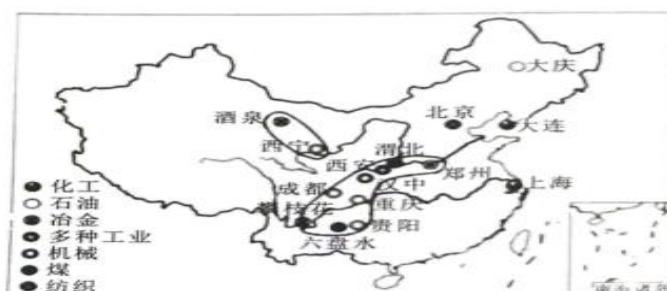
4. 1960年，我国改革《兵役法》中关于每年在11月到次年2月定期征兵的规定，而分为夏季、冬季两次征兵，其中夏季主要征集城市中不能升学的初、高中毕业生和分配不了工作的中专毕业生，以及社会青年、厂矿企业等单位的职工。我国城市征兵开始成规模实施。这一变化

- A. 源于国际形势的日益恶化 B. 出于开展三线建设的现实需要
 C. 加速了军队的现代化建设 D. 意在缓解经济困难引发的压力

5. 根据1955年规定的设市标准，到1964年底，全中国只有建制市168个，比1961年减少36个市。镇的萎缩更为普遍，仅1961-1964年的3年间，全国建制镇便从4429个减少到2877个。这一现象说明

- A. 政策调整对城市化的影响 B. 我国生产能力出现衰退
 C. 我国市镇数量大幅度下降 D. 全国人口总数出现锐减

6. 下图为20世纪60年代中国工业建设示意图，据图可以推断该时期的工业建设



- A. 呈现出重工业畸形发展态势
- B. 是应对严峻国际局势的需要
- C. 改变了中西部地区落后局面
- D. 是一五计划建设的重要成果

7. 1966年前后，第二重型机器厂的东北籍职工在冬季喜欢穿一种毛领长棉大衣，这种棉大衣比当地人常穿的土棉袄更贴身、更保暖且显得更为精神，这让厂区附近的青年男女觉得很“洋气”，争相“托人”购买。东北大米、东北普通话等内容，也迅速成为厂区附近部分城乡居民羡慕和模仿的对象。可见三线建设

- A. 体现社会主义制度优势
- B. 诠释民族忧患意识内涵
- C. 推动了移民文化的交融
- D. 加速现代工业文明传播

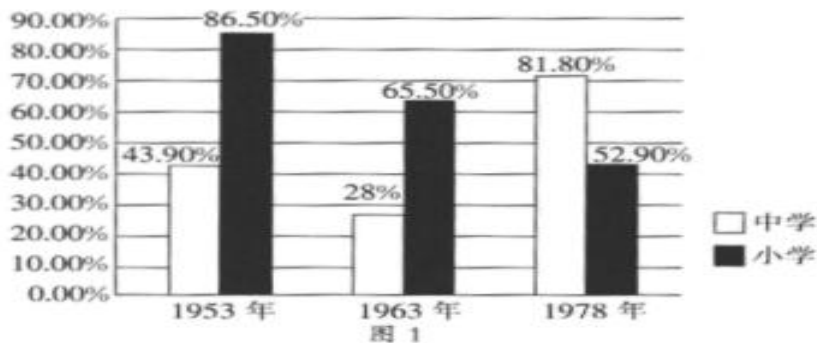
8. 下表是 1949—1978 年我国产业政策演变的相关内容。

阶段	主要产业政策
1949—1957 年	①优先发展重工业②引进和采用先进的设备和技术
1958—1962 年	①“以钢为纲”②建立地方独立的工业体系
1963—1978 年	①注重石油工业的发展②把三线建设、国防建设放在第一位

据表可知，1949—1978 年间我国产业政策重在

- A. 巩固农业的基础地
- B. 发展西部经济
- C. 持续推进工业化建设
- D. 优化产业结构

9. 如图所示为 1953—1978 年的部分年份中，所统计的中国中小学教师学历未达标率（中学和小学分统）。影响表中数据变化的主要因素中，作用最显著的是



注：按照 1977 年的相关规定，高中教师应达到本科毕业水平，初中教师应达到大专水平，小学教师应达到高中或中师水平。

- A. 政治运动
- B. 经费投入
- C. 学校体系
- D. 教师地位

10. 下表为 1952 年、1978 年我国农业发展的部分指标。农业的这种巨大变化主要反映了

类别年份	农业机械总动力 (万马力)	机械耕种面积 (万公顷)	机电灌溉面积 (万公顷)	化肥施用量 (万吨)	农业用电量 (亿度)
1952 年	25	13.6	31.7	7.8	0.5
1978 年	15975	4067	2489.5	884	253.1

- A. 计划经济体制的确立
- B. 农业合作社的发展
- C. 国家重农政策的贯彻
- D. 工业对农业的反哺

11. 中华人民共和国成立后，中国的交通事业迅速发展。下列两幅图片所示相关成就是



1958 年 5 月，毛泽东在中南海观看新中国制造的第一辆小轿车——“东风”牌小轿车



1960 年，中国自行设计、建造的第一艘万吨级远洋货轮——“东风号”下水

- A. 我国在两极格局下自力更生、艰苦奋斗的建设成果
- B. 我国交通事业在“一五”计划期间取得的重大成果
- C. “四个现代化”建设目标激发广大人民自主创新的见证
- D. 国家实行“科教兴国”发展战略结出的硕果

12. 1964年我国首次提出“实现四个现代化”后，与之相关的宣传画层出不穷（下图所示）。这些作品意在



- A. 反映党和国家工作重心的转移
- B. 探索社会主义建设的道路
- C. 激发人民建设社会主义的热情
- D. 体现人民当家作主的喜悦

13. 那时候，中国的奇迹有很多，林县的红旗渠，南京长江大桥、八万座大中型水库，大江大河的治理；成渝铁路、成昆铁路、三线建设、两弹一星、首都十大建筑、许多重大科技突破、建立中国工业的基本构架……奇迹数也数不清。这些奇迹

- A. 得益于人民长期凝聚形成的巨大力量
- B. 大多数都诞生在第一个五年计划时期
- C. 有力推动新中国产业结构的合理布局
- D. 为恢复国民经济提供了基础设施保障

14. 中国政府始终认为解决香港、澳门问题完全属于中国主权范围，根本不属于通常的所谓“殖民地”范畴，英国和葡萄牙当局只是在香港、澳门实行殖民统治，香港、澳门不是殖民地。1972年11月，联合国大会以99票对5票通过决议，认可中国的这一主张。此决议通过的背景是

- A. 《反分裂国家法》的颁布
- B. 中国恢复联合国合法席位
- C. 粤港澳大湾区向纵深发展
- D. 经济总量跃居世界第二位

15. 如表~1972年美国关于“台湾独立运动”问题对中国的承诺，如表反映了

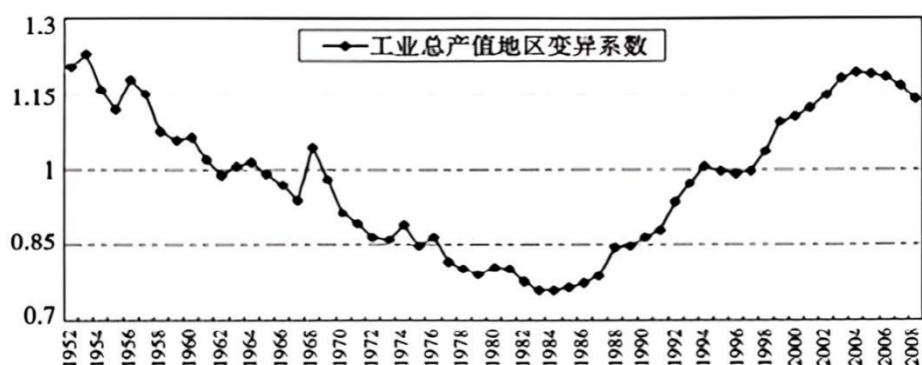
时间	主要内容
1971年7月基辛格来华期间	美国政府不鼓励、不支持、更不参与“台湾独立运动”。
1971年10月基辛格访华期间	不仅是美国政府人员，而且包括美国非官方人员均不鼓励、不支持、不参与“台湾独立运动”，并且将尽力影响日本放弃支持“台湾独立运动”。
1972年2月尼克松总统访华期间	将对“台湾独立运动”的“不鼓励、不支持、不参与”变更为抵制力度更强的“阻止”；在军事力量全部撤出台湾前，美国在台湾对“台湾独立运动”的抵制使用比“阻止”更为强烈的“不允许其发展”一词。

- A. 美国有效制止“台独”运动
- B. 中美双方的矛盾已经消除
- C. 新中国国际战略地位的提升
- D. 与中国建交国家数量剧增

二. 材料题

16. 工业布局对于各地区乃至全国经济发展有着十分重要的意义，新中国成立后工业布局发生了巨大的变化。阅读材料，回答问题。

材料一



注：地区经济发展变异系数反映的是各地区之间经济发展差异情况，数值越大，差异程度越大，反之亦然。

中国工业总产值地区变异系数变动趋势图(1952-2008年)

材料二：各时期沿海与内地基本建设投资所占比重(单位：%)

甲	地区	“一五”时期	“二五”时期	1963—1965年	“三五”时期	“四五”时期	“五五”时期	“六五”时期
	沿海	36.9	38.4	34.9	26.9	35.5	42.2	47.7
内地	46.8	56.0	58.3	64.7	54.4	50.0	46.5	

注：由于全国统计购置的机车车辆、船舶、飞机等投资，未划到地区内，因此沿海与内地投资比重之和小于100%。
——陆大道等著《中国区域发展的理论与实践》

乙	表4 东中西部地区外贸依存度比较(单位：%)				
	年份	全国	东部	中部	西部
	1988	18.08	28.61	6.17	5.83
	1996	31.02	46.29	9.71	11.40
	2004	57.95	87.99	11.85	12.85

——据《新中国五十年统计资料汇编》和《2004年中国经济普查年鉴》

提取材料二的信息并结合所学知识，对材料一所反映的现代中国的工业布局发展趋势进行阐释。(12分)