

江苏省仪征中学 2023—2024 学年度第一学期高三历史学科作业 选择题专项训练 40（安徽省联考）

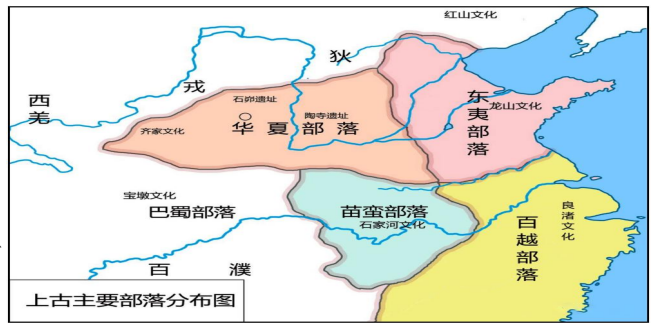
研制人：杨丽娟

审核人：刘明森

班级：_____ 姓名：_____ 学号：_____ 日期：_____ 作业时长： 20 分钟

1. 右图为上古主要部落分布图，这反映出

- A. 中国历史已进入文明时代
- B. 中华民族是多元交融的结晶
- C. 大一统政治格局日趋明显
- D. 中华文明处于世界领先地位



2. 《礼记·王制》记载：“天子七日而殡，七月而葬。诸侯五日而殡，五月而葬。大夫、士、庶人三日而殡，三月而葬。”这反映出西周

- A. 周王牢固管控地方
- B. 敬祖习俗非常盛行
- C. 礼制维护分封等级
- D. 丧葬背离宗法制度

3. 传统的观点认为：汉武帝早年征伐四方、开疆拓土，却也耗费了国力，以致民不聊生。及至晚年，武帝“幡然悔悟”，停止了对外的征伐，下诏“罪己”。学者辛德勇在《制造汉武帝》一书中认为，是司马光在《资治通鉴》中人为地建构了汉武帝晚年从“尚攻”转向“守文”的政治形象。这一观点引发广泛学术争议，表明

- A. 当代著作比古代史学作品更接近真相
- B. 历史人物形象随着时间推移逐渐饱满
- C. 时人热衷于对历史人物进行形象重塑
- D. 历史解释受到研究者主观认识的影响

4. 印章是用反刻的文字取得正写文字的方法。石刻是印章的扩大。秦国的十个石鼓是现存最早的石刻。公元4世纪左右的晋代，发明了墨拓法，即用事先浸湿了的坚韧薄纸铺在石碑上面，轻轻拍打，使纸透入石碑罅隙处。待纸干后，刷墨于纸上，再把纸揭下，就成为黑底白字的拓本。在这些条件下，雕版印刷术发明了。这反映出雕版印刷术的发明具有

- A. 渐进性
- B. 开放性
- C. 实用性
- D. 经验性

5. 下表所示的唐代诗人的相关作品中均带有明显的汉朝背景。这说明

“但使龙城飞将在，不叫胡马度阴山”	王昌龄《出塞》
“汉家烟尘在东北，汉将辞家破残贼”	高适《燕歌行》
“汉皇重色思倾国，御宇多年求不得”	白居易《长恨歌》
“唯应独伴陈皇后，照见长门望幸心”	杜牧《月》

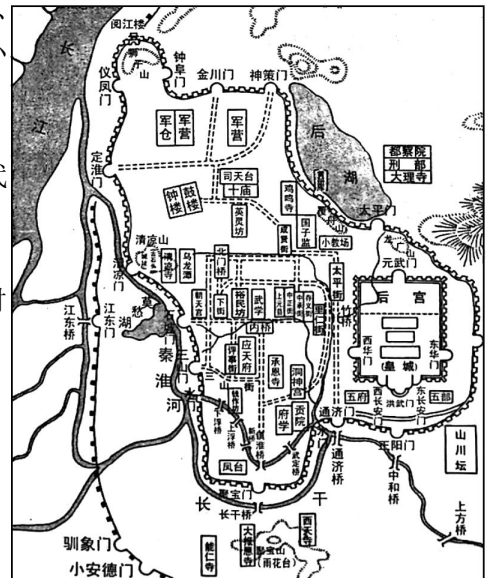
- A. 汉唐均盛行相同的文学体裁
- B. 汉唐均出现边患与无道昏君
- C. 诗人托古言事抒发内心情怀
- D. 诗人对汉代盛世的仰慕追思

6. 南宋风俗宝典《梦粱录》有云：“街坊以食物、动使、冠梳、领抹、缎匹、花朵、玩具等物，沿门歌叫关扑。”在南宋都城临安府，小商贩们挑着担子走街串巷，叫卖吃的用的穿的戴的玩的看的，其方式都是“歌叫关扑”。所谓“歌叫”，就是用唱腔来叫卖，吆喝出来如同唱歌。至于“关扑”，则类似于有奖促销。这反映出宋代

- A. 城市商业的发展
- B. 市民文化的丰富
- C. 经营模式的突破
- D. 音乐艺术的革新

7. 右图为明朝前期的应天府（南京）地图（局部），据此可知，当时的南京

- A. 政治职能突出
- B. 经济文化繁荣
- C. 安全防卫到位
- D. 布局分工明确



朝代	纪年	公元年份	人口数
明	太祖洪武十四年	1381年	59873305
	成祖永乐元年	1403年	66598337
清	世祖顺治八年	1651年	10633326
	高宗乾隆十八年	1753年	102750000
	高宗乾隆三十一年	1766年	208095796
	宣宗道光十三年	1833年	398942036

8. 下表为明清重要年代人口数，导致这一时期人口发展趋势的主要原因是

注：顺治八年为丁酉年

- A. 明清时期疆域的扩大 B. 农业生产技术的突破
C. 生产关系的根本变革 D. 高产农作物的引进推广

9. 鸦片战争前广州十三行中最大的怡和行经营者伍秉鉴拥有

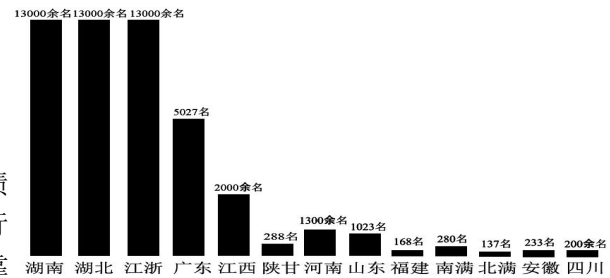
资产超过 2600 万两白银，约为当年清政府财政收入的一半。怡和行巨额投资美国铁路、证券交易和保险等现代金融项目，还是英国东印度公司的最大债权人。据此可知，当时

- A. 私商可以进行大规模外贸 B. 中国掌握对外贸易主动权
C. 民间仍有了解世界的渠道 D. 地方经济势力与外部勾结

10. 右图为中共五大召开（1927年4月28日）前全国党员分布图。

这反映出

- A. 党员人数发展迅速 B. 南方已成革命中心
C. 中共致力工人运动 D. 革命形势正在酝酿



11. 1946 年解放战争爆发初期，陕甘宁边区政府采取了发行土地公债的方式，征购地主的多余土地，规定由无地或者少地的农民进行承购。1947 年《中国土地法大纲》颁布后，中共中央提出“依靠

贫农，团结中农，有步骤地、有分别地消灭封建剥削制度”。中共土地政策

- A. 消灭了中国封建剥削制度 B. 为向社会主义过渡奠定基础
C. 顺应了革命形势发展需要 D. 满足了农民的政治经济要求

12. 在三年经济恢复和第一个五年计划时期，安徽高等教育事业得到稳步发展。到 1957 年底，安徽高校已由解放初期的三所增至五所，专业也有所增加。在校学生 8632 人，比 1949 年的 1052 人，增加 7.2 倍；教职工 2569 人，其中专任教师 1310 人，分别比 1949 年增加 5 倍和 6.5 倍。据此可知，安徽高等教育发展

- A. 实现了全面与均衡 B. 旨在提升劳动者技艺水平
C. 重在扩大受教育机会 D. 适应经济建设发展的需要

13. 1955 年国务院规定：“聚居人口不足 10 万的城镇，必须是重要的工矿基地……确有必要时方可设置市的建制。”1962 年国务院规定：“凡是人口 10 万以下的城市，即使是重要林区 and 矿区，都应撤销市的建制。”国务院作出调整

- A. 出于缓解粮食供应紧张状况 B. 意在解决农轻重比例失调问题
C. 说明“左”倾错误危害严重 D. 表明国家工业化战略已经搁置

14. 1982 年，宪法修改委员会秘书处，根据全民讨论中提出的大量各种类型的意见和建议，对草案又进行了一次修改。许多重要的合理的意见都得到采纳，原来草案的基本内容没有变动，具体规定作了许多补充和修改。这表明

- A. 宪法修改有民意基础 B. 民主政治的进一步完善
C. 民主集中制得到健全 D. 人民群众民主意识增强

15. 1996 年 12 月 11 日，香港特别行政区第一届政府推行委员会以无记名投票方式，选举董建华为香港特别行政区第一任行政长官人选。12 月 16 日，中央政府任命董建华为香港特别行政区第一任行政长官。这反映出

- A. 中英顺利解决香港交接事务 B. 中国政府行使对香港管理权
C. 香港回归准备工作基本就绪 D. 香港实行特殊行政管理体系

16. 右图是 1980—2020 年我国工业进出口、初级产品进出口占比统计曲线图。据此可知，中国

A. 对国际市场依赖性强

- B. 对外贸易日益多元化
C. 工业实力不断增强
D. 工业水平世界领先

