

听数学复习课 享“美食”大餐

——赏高三“直线与圆的综合运用”一轮复习课

214161 江苏省无锡市立人高中数学名师工作室 王华民 周星宇

214106 江苏省宜兴中学 张海强

一、困惑引入

师:请你谈谈在学习解析几何过程中最大的困惑是什么?

3—4个学生回答,主要困难有“方法的选择”、“运算繁琐”等.

师:我与大家有同感,解析几何的计算量很大,而且有时候算了半天还算不对.有没有办法把解析几何的运算简化呢?这节课,我们就这一话题作一些探究(出示课题).

二、新课探究

(以下每一道例题都是PPT投出)

例1 设直线 l 过点 $(-2,0)$,且与圆 $x^2 + y^2 = 1$ 相切,则 l 的斜率是_____.

(例1的上方红字显示:方法选择→你准会)

学生回答,教师作一些引导及相应操作:

方法一:设斜率为 k ,利用圆心到直线 l 的距离等于半径,得 k .

六、教后反思

1. 教学目标定位要准确

概念教学一定要为学生提供丰富典型的具体例证,使学生经过自己的实践活动,从中归纳、概括出一类事物的共同本质特征,从而理解和掌握概念.

两个基本计数原理是一堂概念课,目的是帮助学生建立两个计数原理的概念.这节课的教学过程大体可以分成三个阶段:抽象概括、内化理解、外化运用.一个概念的形成过程需要对一些材料进行观察、分析、比较、归纳、概括,因此,笔者首先给出两个贴近学生生活的简单例子,然后在教师引导下,让学生参与教学,举出了许多有利于归纳、抽象、概括出两个计数原理的其他例子,并让学生说出所举例子的共同点和不同点,加以比较,引导学生抓住本质,在这个基础上概括出两个计数原理.教学中,防止直接把概念“抛”给学生.

2. 学生主体地位要重视

课堂教学过程是在教学目标的指引下,由师生共同动态“生成”的.其中,学生的反馈是重要的,它决定了教学的进程.聆听学生是教师的必备技能,不要将学生作为“答案发生器”,不要沉浸在“我的学生都会做了”这种虚假的成功喜悦中,而应该让学生关注解决问题的过程、策略及思想方法,让他们充分地展示思想,完整地、数学地表达自己的想法,甚至于应该给予他们犯错的机会,也帮助他们提高分析错误、更正错

误的能力.

本节课的两个计数原理不是教师直接给出的,而是在教师引导下,学生从典型丰富的具体例子出发,通过观察、比较、归纳等思维活动,逐步概括得到的.这一过程与前人形成这种计数方法所经历的过程有相似性.这样进行概念教学不仅能使学生深刻理解概念,而且也能更好地培养他们的思维能力.

3. 问题是数学教学的心脏

“问题是数学的心脏”,这是数学家哈尔莫斯说的一句名言.数学之所以能成为锻炼思维的体操,是因为数学发展始终都在不断地提出问题 and 解决问题.事实上,问题也是教学的出发点,是思维的起点,有问题才会去思考解决的办法.数学教学正是在不断提出问题、解决问题的循环反复的过程中培养、发展和提高学生的思维品质与学习能力,在教学过程中,“问题”(包括提出问题和解决问题两个方面)的形成、推证和探索过程的质量是衡量数学教学效益和活力的最重要指标,所以“问题”的确是数学教学的心脏.

参考文献

- [1] 普通高中课程标准实验教科书数学选修2-3[M].江苏教育出版社,2008,2.
- [2] 喻平.数学教育心理学[M].南宁:广西教育出版社,2004.
- [3] 刘洪璐,胡晋宾.借鉴文学创作手法进行教学设计的一次尝试[J].数学通讯,2008,3.

方法二：画草图(教师投影图 1)。从半径为 1, OA 为 2 的直角三角形, 可得 $\angle TAO = 30^\circ$, 故

$$k_1 = \frac{\sqrt{3}}{3}, \text{ 由对称性得 } k_2 = -\frac{\sqrt{3}}{3}.$$

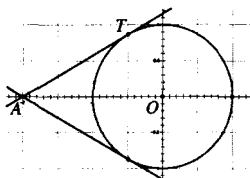


图 1

方法三：联立方程组, 由判别式为 0 得 k .

小结：师：对比三种方法, 哪一种最简单?

生：当然是方法二。

师：为什么呢?

(与学生一同总结出)

解题之道：

① 数形结合——高考考查的四大思想之一;

② 简化——三角、平面几何知识的适时运用。

用。

例 2 已知圆 $(x-3)^2 + y^2 = 4$ 和过原点的直线 $y=kx$ 的交点为 P、Q, 则 $|OP| \cdot |OQ|$ 的值为_____。

学生思考后得出：

方法一：求直线与圆交点, 用函数知识解。

(较繁, 难以进行)

师(引导)：题目条件中最抢眼球的是什么?

生： $y=kx$ 。

教师边几何画板演示(如图 2)边解说：观察动和不动, 动中有静。在教师启发下, 学生得出：

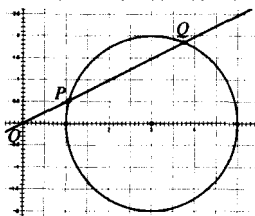


图 2

方法二：式子 $|OP|$

$\cdot |OQ|$ 联想向量, 利用 $|OP| \cdot |OQ| = \vec{OP} \cdot \vec{OQ}$

解决, 转化为 $x_1x_2 + y_1y_2$, 用联立方程组及韦达定理解决。

方法三：利用平面几何中的割线定理和切割线定理解决问题(如图 3)。

$$|OP| \cdot |OQ| = |OA| \cdot |OB| = (3-2)(3+2) = 5.$$

$$|OP| \cdot |OQ| = |PT|^2 = 3^2 - 2^2 = 5.$$

师：知道切割线定理的推导吗?

几个学生在说：由相似三角形的相似比。

教师：大家可以看到平面几何、向量知识对我们解题帮助很大。

本题 PQ 随着直线的变化而不断变动, 动中

求静, 以静制动。关注不同的特殊位置, 可迅速

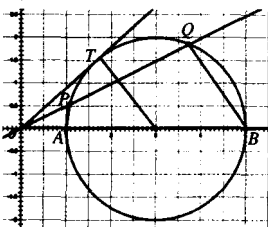


图 3

得出答案, 特殊化(几何图形的特殊点、特殊位置)是解决填空题的有效途径。

解题之道：

① 特殊化和一般化;

② 运动的观点, 注意“动中求静, 以静制动”。

投影介绍：数学中的转折点是笛卡尔的变数, 有了变数, 运动进入了数学; 有了变数, 辩证法进入了数学; 有了变数, 微分和积分也就立刻成为必要的了。

例 3 若圆 $x^2 + y^2 - 4x - 4y - 10 = 0$ 上至少有三个不同点到直线 $l: ax + by = 0$ 的距离为 $2\sqrt{2}$, 则直线 l 的倾斜角的取值范围是_____。

预留了 2 分钟, 不少学

生想到利用特殊位置解决。

解答分两步：

第一步, 寻找两个特殊的位置; (即恰有三个点满足要求的位置) 教师用几何画板演示(如图 4)。

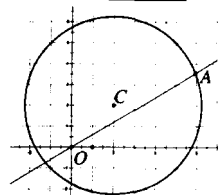


图 4

第二步, 角度的计算, 有两种思路：

(1) 用点到直线的距离, 算出斜率 $k = 2 \pm \sqrt{3}$, 出现 $\tan\theta = 2 + \sqrt{3}, \tan\theta = 2 - \sqrt{3}$, 不是特殊角; 也有部分学生回答: 对应的 θ 为 $75^\circ, 15^\circ$ 。

(2) 旋转过圆心的直线, 发现倾斜角为 $45^\circ \pm 30^\circ$, 得 $[\frac{\pi}{12}, \frac{5\pi}{12}]$ 。

解题之道：“认准角, 能优化解题。”“角度改变观念! 与命题人的思维同步!”

例 4 已知圆 $C: (x-3)^2 + (y-4)^2 = 4$, 直线 l_1 过定点 $A(1, 0)$ 。

(1) 若 l_1 与圆相切, 求 l_1 的方程;

(2) 若 l_1 与圆相交于

P、Q 两点, 线段 PQ 的中

点为 M, 又 l_1 与 $l_2: x + 2y$

$+ 2 = 0$ 的交点为 N, 判断

$AM \cdot AN$ 是否为定值。

若是, 则求出定值; 若不

是, 请说明理由。

让学生稍作思考后

回答：

(1) 略;

(2) 方法一：求 M、N。设直线为 $y = k(x-1)$, 联立方程组解出 M、N 点的坐标, 再利用两点间距离公式解出 AM 和 AN 的长度, 然后计算得到定值。(其中在计算 M 时可以回避圆方程与直线方程联立, 而用直线方程与 PQ 的中垂线方程联立得到)

方法二：不求 M 点。利用向量 $\vec{AM} \cdot \vec{AN} = (\vec{AC} + \vec{CM}) \cdot \vec{AN} = \vec{AC} \cdot \vec{AN}$ 。

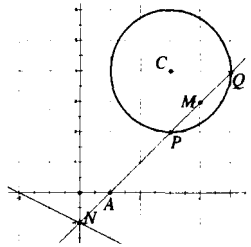


图 5

方法三： M, N 都不求. 连接 CA 并延长, 交直线 l_2 于点 B . 利用 $Rt\triangle ACM \sim Rt\triangle ANB$ 来解决问题.

师: 化简计算的途径有很多, 通过不同的途径解决问题, 我们会发现简化程度不同.

解题之道:

1. 简化计算的途径——向量、平面几何、三角, 抓联系、抓本质;
2. 优美解: 熟路中的捷径.

三、归纳总结

师: 请你用几个关键词概括本课的要点.

生归纳、教师补充并投影: 知识、方法、情趣.

四、反思

本课预设的教学目标: ①在掌握直线与圆的位置关系的基础上, 能解决一些有关直线与圆的综合题; ②初步掌握一些简化运算的方法; ③渗透数形结合思想和运动的思想; ④经历解答的过程, 展示运算简化的过程, 让学生体验解题研究带来的乐趣. 从上述课堂过程简述及课堂反馈: 始终围绕着目标进行, 且目标的达成度较高.

1. 以适合学生为基础, 凸显新颖性

一般的高三复习课, 是选几道典型例题、习题, 师生讲讲、练练, 比较枯燥, 缺少新鲜感, 难以激发学生的学习兴趣. 而这堂“直线与圆综合运用”复习课, 听课者无不感觉其新颖. 其一, 在选题方向上, 教师动了一番脑筋, 摸准学生在解析几何学习中存在的主要问题(害怕运算, 选择方法难)而设计了一个谈话环节, 既了解学生学习的困惑, 针对性强, 体现了以学定教的理念, 又能和学生达成知识和情感上的亲密无间; 其二, 解题之后的归纳小结以“解题之道”呈现, 揭示数学思想方法以及哲学道理; 其三, 在解决问题的过程中, 辅之于几何画板的动画演示, 促进学生对问题的理解, 并揭示出问题的本质; 其四, 课堂总结, 抓住三个关键词: 知识、方法、情趣, 从三个维度进行, 使学生加深对“解题”的理解, 让人在感叹之余, 品尝其鲜美, 体味数学学习带来的乐趣.

2. 以简化运算为主题, 凸显数学美

从上课伊始谈困惑, 需要简化, 例 1 到例 4 的每道题的解决, 都在诠释“如何简化”, “简化给解题能带来什么”. 例 1 后教师提出, 解决解析几何问题要拓展思路, 不仅要与平面几何联系, 还要与三角结合; 例 2 的简化是得益于抓住变化中的不变量, 这是解决问题的关键所在. 例 3 后指出“认准角, 能优化解题”, 从斜率入手

得出 $\tan\theta = 2 \pm \sqrt{3}$, 但非特殊角, 转换为从“角”入手, 使问题得以简洁、流畅地解决, 达到“与命题人的思维同步”, 数学与“角”结下不解之缘. 例 4 的解答是整堂课的高潮, 从方法一“求解 M 点坐标, 建立不同的方程组”, 到方法二“用向量的分解转化, 不求 M 点”, 再到方法三“转化为平面几何中的相似问题, 两点都不求”, 解答一次比一次更简洁, 一次比一次更优美. 我们知道, 解答解析几何问题, 难免有一些繁琐, 但解决本课的问题(不少是近年的高考题), 由于教师的智慧设计, 拓宽视野, 不断优化解题过程, 让学生在感受转化思想的同时, 树立求简意识, 欣赏数学的简洁美, 从而产生解题之愉悦. 除了简洁美外, 角、直线和圆这些图形的对称美, 斜率、范围表达式的对称美也不断显现, 课堂上学生安静地思考、练习, 教师的点评提升, 动静结合, 师生配合默契, 张弛有度, 无不体现和谐美. 还有那几何画板演绎的靓丽图形, 再配上教师幽默风趣的语言、迥劲有力的板书, 给高三学子紧张的数学复习带来一些视觉、听觉的美的享受. 从学生兴奋的表情和满足感, 也应验了这一点.

3. 以解题反思为重点, 凸显高立意

在每一个问题的那张 PPT 上都有精彩的文字短句, 第 1 题上方显示: 你准会! 第 2 题上显示: 算得快! 依次为: 举一反三, 融会贯通. 在例 2 后有投影介绍: 数学中的转折点是笛卡尔的变数, 有了变数, 运动进入了数学; 有了变数, 辩证法进入了数学; 有了变数, 微分和积分也就立刻成为必要的了. 这些语句, 是在激励学生, 也在渗透数学文化, 使学生在学习数学过程中受到数学文化的熏陶. 每一题之后有解题之道. 上述例题, 充分发掘题目的内在联系, 沟通了数学不同分支知识间的联系并整合, 才实现解题的突破与优化, 体现了辩证法的联系观、发展观, 可谓高立意. 这些贴切的小结, 反映了教者渊博的学识和智慧. 作为本课的总结, “你收获了什么?”——“知识、方法、情趣”. 是的, 高三的数学课堂离不开知识的传授与巩固、方法的总结提炼, 但不光是这些, 而是以问题为载体, 在提升知识、方法的基础上, 培养学生的思维能力和个性品质, 让学生从中获得学习的乐趣. 一堂枯燥乏味的数学课给人繁、累、苦的感觉, 而一堂充满活力的数学课, 让学生觉得数学“好玩”, 可敬又可亲, 它根植于生活, 又服务于生活.

本课缘于教师的精心设计和高超的驾驭能力, 让高三数学复习课, 充满生机与魅力, 在探索解题规律时, 渗透数学思想与数学文化, 进行理性思考, 揭示数学背后的哲学意境, 得一番生活情趣, 满足学生一种较高层次的需要, 可谓高

巧用“负迁移”，突破“定势思维”*

——一道课本例题变式教学引发的思考

221000 江苏省徐州市第一中学 丁永刚

“变式教学”是指教师有目的、有计划地对命题进行合理的转化,更换命题中的非本质特征,变换问题中的条件或结论,转换问题的内容和形式,配置实际应用的环境,从而使学生在学习中学会举一反三的一种教学方式,常见的有概念变式和习题变式.新授课的概念变式应服务于本节课的教学目的;习题课的习题变式应以本章节内容为主,适当渗透一些数学思想和数学方法;复习课的习题变式不但要渗透数学思想和数学方法,还要进行纵向和横向的联系.

在变式教学中,教师不能总是自己变题,然后让学生练,还要鼓励学生主动参与变题,然后再练习,这样才能更好锻炼学生的思维能力.笔者在讲授苏教版必修5第一章的一道课本例题时设计了如下变式:

1 过程设计

【例题】如图1,在 $\triangle ABC$ 中, AD 是 $\angle BAC$ 的平分线,用正弦定理证明 $\frac{AB}{AC} = \frac{BD}{DC}$.

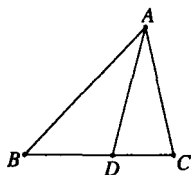


图1

证明:在 $\triangle ABC$ 中,由正弦定理得 $\frac{AB}{\sin \angle ADB} = \frac{BD}{\sin \angle BAD}$ ①

在 $\triangle ACD$ 中,由正弦定理得 $\frac{AC}{\sin \angle ADC} = \frac{CD}{\sin \angle CAD}$ ②

$\because \sin \angle BAD = \sin \angle CAD, \sin \angle ADB =$

$\sin \angle ADC, \therefore$ ①/②得 $\frac{AB}{AC} = \frac{BD}{DC}$.

【变题】如图2,在 $\triangle ABC$

中,已知 $AB = \frac{4\sqrt{6}}{3}, \cos B =$

$\frac{\sqrt{6}}{6}, AC$ 边上的中线 $BD = \sqrt{5}$,

求 BC .

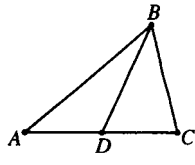


图2

生1:设 $\angle ADB = \theta, AD = x$,则 $\angle CDB = \pi - \theta, CD = x$.

在 $\triangle ABD$ 中, $AB = \frac{4\sqrt{6}}{3}, BD = \sqrt{5}, AD = x, \angle ADB = \theta$.由余弦定理得 $AB^2 = AD^2 + BD^2 - 2AD \cdot BD \cos \theta$,即 $\cos \theta = \frac{x^2 + 5 - \frac{32}{3}}{2\sqrt{5}x}$.

在 $\triangle BDC$ 中, $CD = x, BD = \sqrt{5}, \angle BDC = \pi - \theta$.由余弦定理得 $BC^2 = BD^2 + DC^2 - 2BD \cdot CD \cos(\pi - \theta)$,即 $-\cos \theta = \frac{x^2 + 5 - BC^2}{2\sqrt{5}x}$.所以 $\frac{32}{3} - x^2 - 5 = x^2 + 5 - BC^2$,解得 $BC^2 = 2x^2 - \frac{2}{3}$ ①.

在 $\triangle ABC$ 中, $AB = \frac{4\sqrt{6}}{3}, AC = 2x, \cos B = \frac{\sqrt{6}}{6}$.由余弦定理得 $\frac{\sqrt{6}}{6} = \frac{\frac{32}{3} + BC^2 - 4x^2}{2 \cdot \frac{4\sqrt{6}}{3} \cdot BC}$,即 BC^2

立意.

4. 以纵横联系为核心,凸显实效性

这堂“直线与圆的综合运用”复习课,不仅涉及直线与圆,因解决问题的需要,还与三角、向量、平面几何中的圆、相似三角形等紧密结合在一起,“立体感”很强,而重点——数学思想和方法的渗透与运用也很突出.作为高三复习课,指向高考,介绍一点答题技巧很有必要.如例题后不忘提醒学生:小题要小“做”,借助图形,抓一些特殊量(点、位置等)可以快速求解,节省了宝贵的课堂时间,体现有效性.例3是对例2的

巩固和深化,本质还是找特殊位置,作为检测例2的掌握效果,体现反馈原理,而且实现了解的优化,凸显出实效.另外,教师在现场娴熟的几何画板演示,并储存了学生答题可能出现的几张图,既有益于学生对问题的理解,也节省了板书时间,提高了课堂的效率.从课堂上学生的情况反馈:正确率较高.

在例4之后,由于时间关系,虽有一个总结,但缺乏对三种方法优劣的具体化的对比,一点小遗憾.但瑕不掩瑜,这样“色”、“味”兼具的美食大餐,学生、教师,谁人不爱?