

## 专题五：图表型选择题

### 解题技巧：

#### 1. “三看”

- ①看图表头及出处：确定历史事件、现象及历史时期
- ②看图表中的项目：数据信息的时间、空间、数量的变化(升降)
- ③看图表中的数据：观纵横变化并综合分析表格中的有效信息所反映的现象。

#### 2. “四注意”

- ①注意围绕数据而展开的描述性的语言
- ②注意时间变化与数据变化的关系
- ③注意分析数据变化的特征
- ④注意分析数据变化的原因

3. 具体操作：曲线数据图“边边角角看拐点”；柱状数据图“上下左右看趋势”；表格数据图“纵横驰骋看变化；饼状数据图”阴晴圆缺看大小“。

### 高考真题：

1. 据学者研究,唐朝“安史之乱”后百余年间的藩镇基本情况如表2所示。

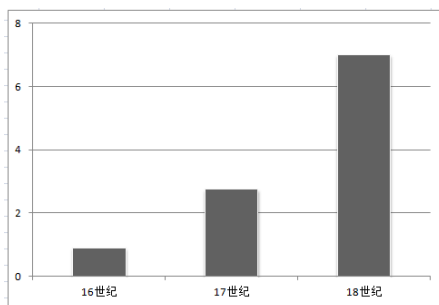
“安史之乱”后百余年间唐朝藩镇基本情况表

藩镇类型	数量(个)	官员任免	赋税供纳	兵额与功能
河朔型	7	藩镇自擅	不上供	拥重兵以自立
中原型	8	朝廷任命	少上供	驻重兵防骄藩
边疆型	17	朝廷任命	少上供	驻重兵守边陲
东南型	9	朝廷任命	上供	驻兵少防盗贼

由此可知,这一时期的藩镇( )

- A. 控制了朝廷财政收入      B. 彼此之间攻伐不已  
C. 注重维护中央的权威      D. 延续了唐朝的统治

2. (2018 全国 II 卷, 33) 图 6 可以用来说明, 奴隶贸易( )



■ 欧洲向美洲贩运奴隶数量(单位: 百万)

- A. 是早期资本主义扩张的手段      B. 促成世界殖民体系最终确立  
C. 导致“日不落帝国”的产生      D. 因白银开采的需要达到极盛

3. (2018 全国III卷, 25)

表 1 宋代宰相祖辈任官情况表

曾祖、祖父或父亲任官情况	宰相人数	
	北宋 (71)	南宋 (62)
高级官员	20	8
中级官员	15	10
低级官员	12	8
无官职记录	24	36

表 1 据学者研究整理而成, 反映出两宋时期( )

- A. 世家大族影响巨大      B. 社会阶层流动加强  
C. 宰相权力日益下降      D. 科举制度功能弱化

4. (2018 全国III卷, 31)

表 2 中国乡镇企业行业分布表 (单位: 万个)

年份	农业	工业	建筑业	交通运输业	商、饮、服务业
1982	29.28	74.92	5.38	9.58	17.01
1988	23.28	773.52	95.58	372.55	623.23

表 2 中的数据变化说明, 这一时期我国( )

- A. 农村剩余劳动力大量转移      B. 城乡一体化逐步实现  
C. 社会主义市场经济体制已建立      D. 工业结构趋于合理

5. (2018 全国III卷, 34)

表 3 1929~1931 年美国部分行业工人周工资变化表 (单位: %)

类别 \ 时间	1929~1930 年	1930~1931 年
烟煤业	-12.3	-19.1
金属矿业	-6.6	-18.3
制造业	-7.2	-11.3

据表 3 可知, 当时美国( )

- A. 最低工资标准失效      B. 产业结构迅速调整  
C. 经济危机不断加深      D. 政府财政支出锐减

6. (2018 北京卷, 15) 明中叶以来, 松江府 (今上海一带) 所辖市镇数量如下表所示。据此表可以

得出( )

时间	松江市镇数量
1550 年以前	59
1551—1722 年	113
1723—1861 年	167
1862—1911 年	369

- ①市镇数量增长体现出商人地位上升      ②明清时期松江地区工商业发展较快  
 ③市镇增多与近代开放通商口岸有关      ④清政府与民国政府都重视商业发展

- A. ①④      B. ②③      C. ②④      D. ①③

7. (2018 北京卷, 22) 读图 9, 下列选项能够正确反映美国政府财政盈亏及其原因的是( )



图 9 1948—1968 年美国财政盈亏示意图 (单位: 10 亿美元)

- A. “马歇尔计划”从欧洲吸引援助使美国财政盈余  
 B. 古巴导弹危机的紧张局势给美国财政造成赤字  
 C. 美国人首次登上月球, 给美国财政带来了盈余  
 D. 美国深陷越南战争的泥潭, 给政府造成了赤字

8. (2018 海南卷, 6) 表 1 现存 17~19 世纪东南亚部分国家华人宗教碑铭数量表

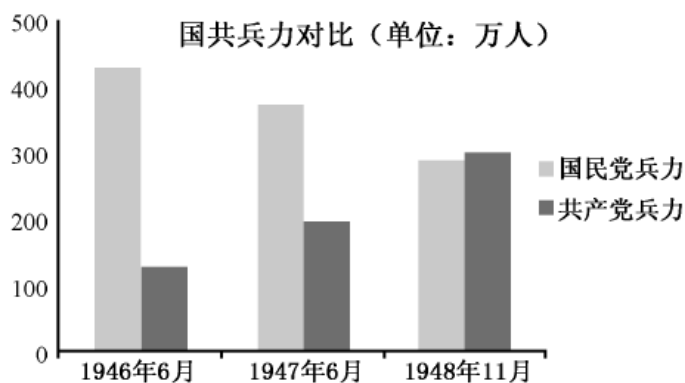
国家 \ 时间	17 世纪	18 世纪	19 世纪
	印尼	8	51
泰国	1	4	85

马来西亚	1	7	216
合计	10	62	552

表 1 呈现的史实表明，17~19 世纪的中国( )

- A. 迁往海外的人口不断增加                      B. 自然经济加速解体  
C. 社会经济呈持续繁荣局面                      D. 海外贸易长期发达

9. (2018 江苏卷, 10) 右侧是解放战争时期国共两党兵力对比图。由此可知, 人民军队兵力总数占据优势始于( )



- A. 全面内战爆发时                                      B. 战略反攻开始前  
C. 三大战役进行中                                      D. 渡江战役结束后

10. (2018 天津卷, 11) 中国共产党分别于 1956、1969、1982、1992 年召开第八、九、十二、十四次全国代表大会。下表是对这四次大会政治报告中出现的前 10 个高频词的次数统计。其中与党的十二大相对应的一组是( )

高频词	会议									
	社会主义	阶级	革命	经济	建设	发展	人民	国家	中国	领导
①	118	98	45	53	52	79	111	118	25	57
②	128	35	62	123	124	92	117	77	52	62
③	179	14	25	209	184	173	102	76	118	59
④	84	335	288	27	24	28	121	38	68	56

- A. ①                      B. ②                      C. ③                      D. ④

11. (2017 全国 I 卷, 25)

表 1

皇帝纪年	公元纪年	郡级政区
------	------	------

汉高帝十二年	前 195 年	15 郡
汉文帝十六年	前 164 年	24 郡
汉景帝中六年	前 144 年	68 郡、国
汉武帝元封五年	前 106 年	108 郡、国

表 1 为西汉朝廷直接管辖的郡级政区变化表。据此可知( )

- A. 诸侯王国与朝廷矛盾渐趋激化      B. 中央行政体制进行了调整  
C. 朝廷解决边患的条件更加成熟      D. 王国控制的区域日益扩大

12. (2017 全国 I 卷, 33)

表 3

英国国民总收入变化表			
年份	约 1770	约 1790~1793	约 1830~1835
数额 (百万英镑)	140	175	360
英国工人实际工资变化表 (即按实际购买力计算的工资, 1851 年为 100。)			
年份	1755	1797	1835
指数	42. 74	42. 48	78. 69

综合表 3 可知, 在工业革命期间, 英国( )

- A. 工人实际收入与经济发展同步增长      B. 经济快速发展依赖于廉价的劳动力  
C. 工人生活整体上没有改善      D. 社会贫富差距进一步拉大

13. (2017 全国III卷, 26)

表 1

土地规模 (亩)	户数	户数比例
20 以下	24	17. 3%
20~130	103	74. 1%
131~300	10	7. 2%
300 以上	2	1. 4%
小计	139	100%

表 1 为唐代后期敦煌某地土地占有情况统计表。据此可知, 当时该地( )

- A. 自耕农经济盛行      B. 土地集中现象突出  
C. 均田制破坏严重      D. 农业生产效率提高

14. (2017 北京卷, 18) 据图 8 判断, 下列选项正确的是( )

北京市百货零售网点数量统计示意图

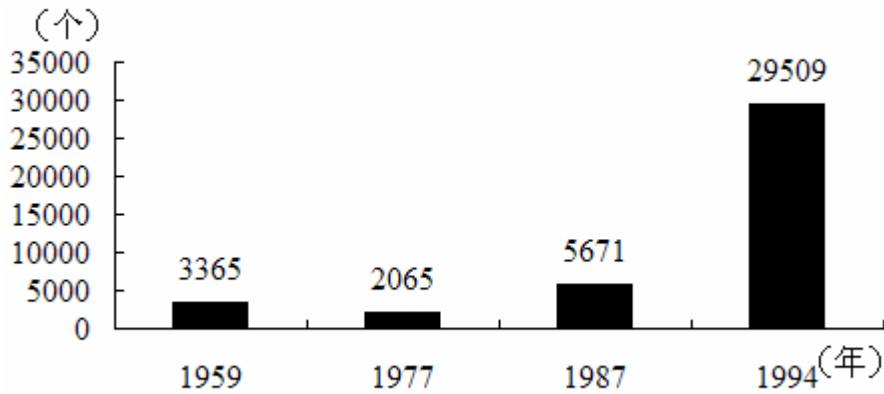


图 8

- A. 工商业社会主义改造导致服务网点锐减  
 B. 第一个五年计划推动了北京服务业发展  
 C. 经济体制改革极大激发了北京市场活力  
 D. 加入世贸组织使北京商品供应更加多样

15. (2017 江苏卷, 7) 《万国公报》对近代中国知识分子产生了较大影响。有学者统计了其中发表的相关文章, 如下表:

主题 \ 时间	1880—1889	1890—1899 年	1900—1907 年
禁缠足 (篇)	3	11	17
兴女学 (篇)	5	6	17
介绍外国妇女 (篇)	2	19	22
合计	10	36	56

由此推断 ( )

- A. 《万国公报》是中国人最早创办的报刊  
 B. 晚清知识分子通过报刊实现了言论自由  
 C. 知识界的宣传呼吁迫使清政府革除陋习  
 D. 随社会发展知识界对妇女问题渐趋重视

16. (2017 江苏卷, 18) 20 世纪 90 年代以来, 世界经济结构发生新变化。以下是 1990 年和 2003 年不同类型国家三大产业占国内生产总值比重表:

国家地区 \ 产业时间	农业 (%)		工业 (%)		服务业 (%)	
	1990 年	2003 年	1990 年	2003 年	1990 年	2003 年
低收入	32	24	28	27	40	49
中等收入	14	9	39	36	47	55
高收入	3	2	33	27	64	71

表中数据表明 ( )

- A. 高收入国家越来越忽视农业生产  
 B. 中低收入国家各产业间发展均衡

- C. 不同类型国家产业结构的变革呈现平衡发展
- D. 不同类型国家产业结构的变革趋势基本相同

17. (2016 海南卷, 23) 表 1 是美国、日本、联邦德国三大产业产值在其国民生产总值中所占比重情况。

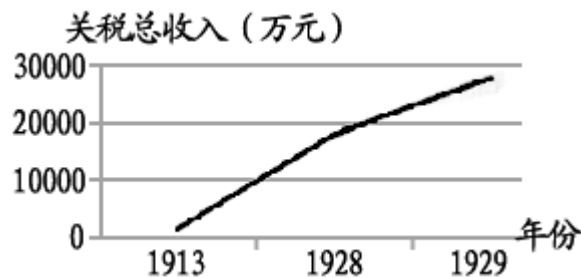
表 1

	1950 年			1970 年		
	农业	工业	服务业	农业	工业	服务业
美国	7. 2	36. 9	55. 1	2. 9	31. 7	64. 7
日本	26. 0	31. 7	42. 3	3. 6	43. 0	48. 4
联邦德国	10. 7	49. 7	39. 6	3. 3	51. 7	45. 0

表 1 中的数据反映了三国( )

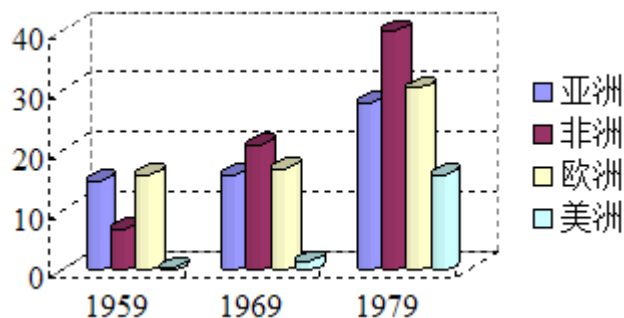
- A. 第三产业带动经济发展
- B. 农业生产衰退
- C. 产业结构出现严重失衡
- D. 工业发展滞后

18. (2016 上海卷, 23) 右图反映了近代中国关税总收入的明显变化, 其主要原因是( )



- A. 改订新约运动
- B. 南京临时政府成立
- C. 民族经济发展
- D. 北伐战争爆发

19. (2016 上海卷, 28) 如图所示, 新中国成立后外交史上出现过三次建交高潮, 引发第三次高潮的主要原因是( )



- A. 中美关系正常化
- B. 中国提出和平共处五项原则
- C. 中国加入世界贸易组织
- D. 中日建交

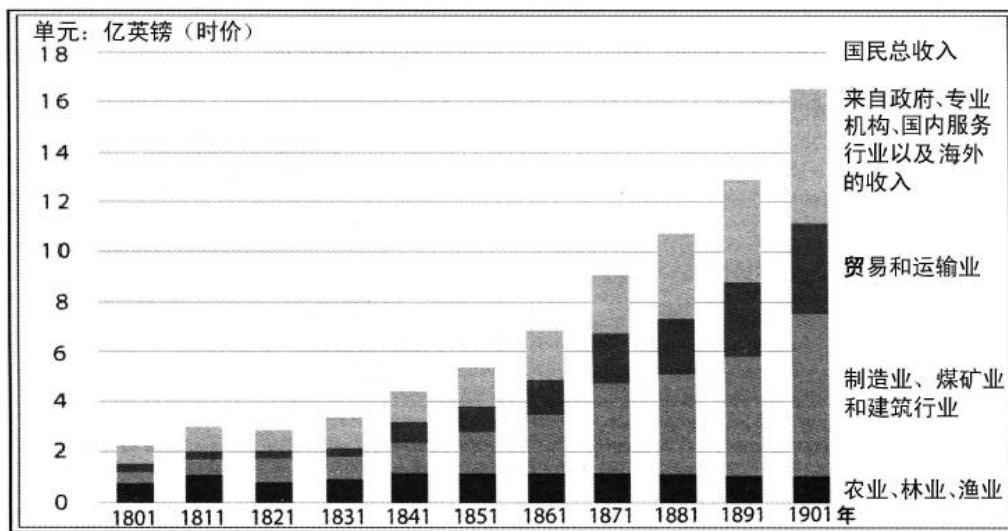
20. (2016 江苏卷, 9) 下表是 1894~1914 年英、日等国占中国对外贸易总值的百分比。

年份	英国	日本	其他国家
1894	69. 49	6. 26	24. 25
1900	62. 99	11. 20	25. 81
1905	55. 71	14. 04	30. 25
1910	50. 89	16. 14	32. 97
1914	48. 31	20. 39	31. 30

对表中数据解读正确的是( )

- A. 《马关条约》签订后日本加强对中国的经济侵略
- B. 对英贸易比重降低表明英国国际地位的明显下降
- C. 这一阶段帝国主义列强的经济侵略以商品倾销为主
- D. 对其他国家贸易比重变化折射出中国国际地位提高

21. (2016 江苏卷, 17) 下图是 19 世纪英国国民总收入来源示意图。



对该图解读正确的是( )

- A. 19 世纪英国农业、林业和渔业处于稳定增长阶段
- B. 第二产业收入的增长与其发展的阶段特征不相符
- C. 第三产业收入的增长并未体现工业化阶段的特征
- D. 经济收入与国民经济在结构的变化上呈现出一致