

华大新高考联盟 2021 届高三 11 月教学质量测评

历史

本试题卷共 6 页。全卷满分 100 分，考试用时 90 分钟。

注意事项:

- 1.答卷前、考生务必将自己的姓名、准考证号填写在答题卡上。
- 2.回答选择题时，选出每小题答案后，用铅笔把答题卡上对应题目的答案标号涂黑，如需改动，用橡皮擦干净后，再选涂其他答案标号。回答非选择题时，将答案写在答题卡上。写在本试卷上无效。
- 3.考试结束后，将本试卷和答题卡一并交回。

一、 选择题:本题共 15 小题,每小题 3 分,共 45 分。每小题只有一个选项符合题目要求。

1.下表为先秦时期部分思想家的观点:

孔子	“苛政猛于虎。”
孟子	“争地以战，杀人盈野，争域以战，杀人盈城。此所谓率上地而食人肉，罪不容于死。”
韩非	“是以人民众而货财寡,事力劳而供养薄，故民争。”

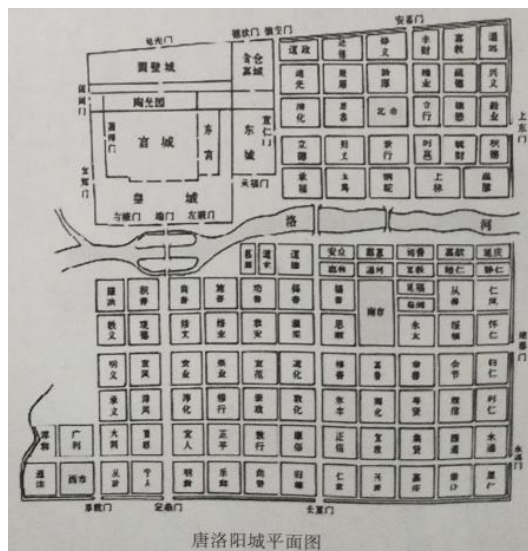
这反映出先秦思想家

- A.对发展社会生产的高度重视 B.对统治集团贪欲无度的批判
C.对社会矛盾成因的深入剖析 D.对春秋战国兼并战争的抨击

2.汉初文献将汉朝中央政府直接统治区域的人称为“汉民”。其他诸侯国人则称“吴人”楚人”“齐人”等。这一不同称谓

- A.有利于探察汉初的国家结构
B.表明王国力量严重威胁中央
C.说明国家统一观念尚未出现
D.揭示汉初区域经济差异明显

3.如右图，唐代城市规划中,只有长安城的宫城与皇城位于城内北部正中;其他大部分城市都遵循中原地势



西高东低的地理特点，把宫或地方宫衙建在城的西北圈。这表明唐代城市规划

- A.严格凸显等级观念
- B.较为重视城防安全
- C.为历代统治者沿用
- D.注重城市经济职能

唐洛阳城平面图

4.宋朝政府规定，凡担任路、州、县的亲民官.需要回避本贯、寄居地、回避祖产和妻家田产所在地、回避亲属等，并遵守定期轮调的种种规定:只有在父母年老或为优待元老重臣等较特殊的情况下才能例外。这一制度的实施

- A.有利于加强中央集权
- B.目的在于倡导官员尽孝
- C.杜绝了地方吏治腐败
- D.拓宽了政府选官的渠道

5.有学者对明清文学发展的阶段特征进行了概括:

	风格	代表作品
明朝中叶以后	浪漫主义	《西游记》《牡丹亭》
明清之际	感伤主义	《桃花扇》《长生殿》《聊斋志异》
清代	批判现实主义	《红楼梦》《儒林外史》

这表明，明清时期的文学作品

- A.其艺术风格与时代变迁息息相关
- B.突出表现对个体命运的关注
- C.折射出对儒学正统的大胆挑战
- D.主要聚焦于普通的市民生活

6.美国传教士林乐知在《中东战纪本末》一书中指出:“古者列国分封，当王室多事之秋，犹有勤王之义旅。今旅顺失矣，盛京危契,輦教之下.烽烟渐近，而各省大吏.唯知自.....该传教士认为战争失败的主要原因是

- A.海防设施落后
- B.中央集权弱化
- C.行政效率低下
- D.民众愚昧无知

7.据不完全统计，《新青年》在 1919- 1921 年间设置的“社会调查”“人口问题”“工读互助团问题”“劳动问题”等专栏和专号上，大约发表了 140 多篇政论报道和通信.如下表:

作者	篇名	作者	篇名
陈独秀	上海厚生纱厂湖南女工问题	野	长沙劳动状况
李少穆	皖豫鄂浙冶铁工人状况	高语罕	芜湖劳动状况
莫如	南京劳动状况	李幽影	北京劳动状况
高君宇	山西劳动状况	记者	香港罢工纪略

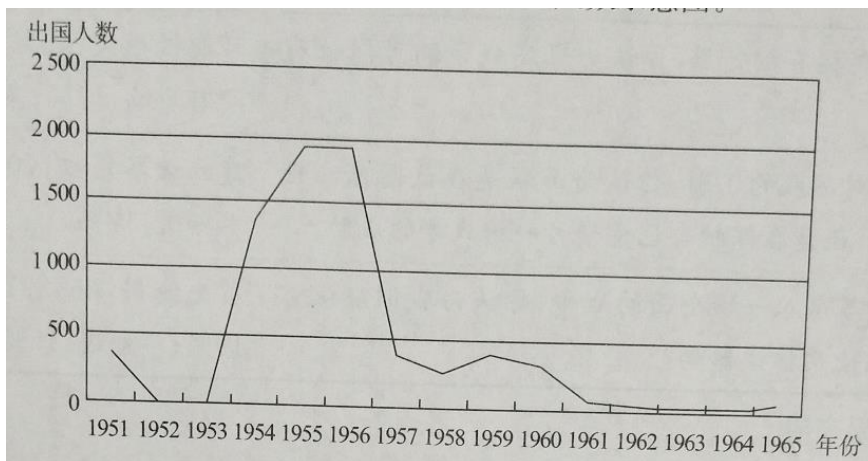
这一时期知识分子对劳工问题关注度明显提高的重要原因是

- A 工人运动蓬勃开展 B 中国共产党重视工人权益
C.工人阶级队伍壮大 D.劳工问题成为了社会焦点

8. 1936年，毛泽东指出：我们的政府不但是代表工农的，而且是代表民族的“我们要把这个日号改变一下，改变为人民共和国”；1937年，中共正式提出了“新的民主共和国”的概念。这一转变

- A.适应了新形势下新的民族战争的需要
B.改变了中国社会的主要矛盾
C.延续了工农武装割据的思想
D.推动国家向社会主义转变

9.下图为中华人民共和国教育部系统 1951- 1965 年留苏学生人数示意图。



据此可知

- A.60年代末留苏浪潮遂告终结 B.留苏人数波动受中美关系的影响
C.“一五.”计划前期留苏形成热潮 D.苏联对华援助推动教育制度变革

10.在雅典，允任陪审员的公民，有不少是年老的退仇公民，伯利克里时期规定，在进入法院大厦之前，授给每个陪审员一根出庭杖和一枚证章，凭证可以领受两个欧布尔的津贴。这一制度

- A.奠定了雅典直接民主政治的基础
- B.有利于调动中 F 阶层公民参政积极性
- C.表明雅典公民参与政治热情较低
- D.体现出雅典直接民主政治具有强制性

11.英国伦敦皇家学会曾再敦促牛顿：这部(关于光和颜色的)论著应该马上印刷出版，刻不容缓。因为我们有理由担心,其中所包含的奇妙而惊人的想..其荣誉也被外国人占有。“对科学发现优先权的强调

- A.宣告了近代科学的诞生
- B.推动英国民族国家形成
- C.推动了科学研究制度化
- D.促进了科学事业的进步

12.马克思指出：“同机器、信用等样，直接奴隶制是资产阶级工业的基础。没有奴隶就没有棉花;没有棉花就没有现代工业。奴隶制使殖民地具有价值，殖民地产生世界贸易，世界贸易是大工业的条件。”这一论

- A.认为种植园奴隶制经济合乎道德
- B.指出美洲殖民地对工业兴起的贡献
- C.批判了近代欧洲殖民主义的罪恶
- D.强调原料对工业化生产的决定意义

13.1919 年苏俄政府颁布法令.规定:所有居民不分年龄.律人均 8 平方米:如果套住宅中的人均面积超标，也就意味着出现了“多余的面积”就必须允许其他人规到这套住宅里共同居住，这就是“聚凑使用住宅”。这一法令

- A.体现统一-分配住宅的原则
- B.通过货币关系解决了住房问题
- C.实现了公有制下的社会平等
- D.是新经济政策的重要内容之一

14.二战后，民意测验成为分析社会和政治生活的重要手段。

1949年 12月	既然苏联拥有核武器,你认为爆发战争的可能性有多大?	可能性很大:45%;可能性很小:28%; 没有影响:17%;不知道:10%。
1950年 11月	根据你对苏联的了解,你认为苏联是在试图建立世界霸权,还是在保护自己免受另一场战争的威胁?	建立世界霸权:70%;保护自己:18%; 不知道:12%。
1951年 12月	如果美苏卷入一场全面的战争,你认为我们应该首先对俄使用核武器吗?	首先使用:66%;遭到核打击后使用: 19%;不知道:15%。

上述民意测验结果表明

- A.核战阴影影响民众心理 B.民众心理影响政府决策
C.美国政府鼓吹先发制人 D.美苏陷入军备竞赛怪圈

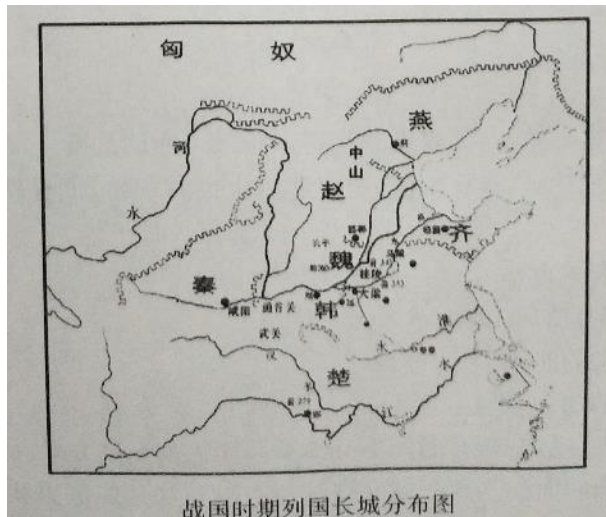
15.1980年,威廉·麦克尼尔写道:“与偏狭历史著作不可避免地增强冲突相反,部简明的世界史应当树立个人与全人类祸福休戚与共的意识,从而避免民族冲突的恶果。”作者赞同的世界历史是

- A.以欧洲历史为中心
B.展现人类社会多样性的全球史
C.以文明对抗为主线
D.描绘不同文明相互融合的历史

二、非选择题:本题共4题,共55分。

16.(12分)下图分别是中国战国时期和秦朝的长城分布图。阅读材料,回答问题。

材料



分别提取图中的长城分布信息,并据此说明其展示的时代特征。(12 分)

17.(14 分)阅读材料,回答问题,

1	1867 年,严复进入近代海防史上第一所海军学校福州船政学堂就读;五年后作为海军军官派遣出洋,曾入英国格林尼茨海军大学学习
2	1880 年,严复出任始成立的北洋水师学堂总教习
3	1885 年开始,为改变官阶太低和不是科举正途出身的窘境,严复历经九年,四次参加乡试,想博取举人功名,屡试不中
4	1895 年以后,严复开始以著述为主的生活,写下了《论世变之亟》《救亡决论》《原强》等文章,专门探讨入股经义的危害,主张废入股,讲西学;翻译赫胥黎《天演论》、亚当·斯密《国富论》和孟德斯鸠《法意》。在《天演论》中,“物竞天择”“适者生存”的生物进化观点广为流传
5	1909 年,严复被清政府授予“文科进士出身”

根据材料,谈谈你对严复人生历程的认识。(14 分)(要求:表述成文.持论有据,论述充分.)

逻辑清晰)

18. (14 分)阅读材料，回答问题。

致刘德辉

德辉吾弟鉴:

自你来信一封已经收到:将信看完,我以全部知道了我是非常高兴,我真领服你,希你要加强工作消灭美帝国主义,兄在家加强提高生产支援前线。现在我们母亲玉体健康。精神璧铄。比昔年还要好些。家乡在党、毛主席的领导下现在我们真正彻底翻身了.所分的田土房屋,我真高兴。至于秋收工作完全结束了,我将收的稻谷计算亦有六旦有余,至于家庭生活全部解决了,请弟一切不要挂念家庭。母亲和我与汝任,假是我们家庭生活与生产有困难,已有村上帮助。至于母亲有我孝养何奉,请弟不要桂念,请你安心抗美援朝期,你的功劳十分伟大极了。...不有再叙,后信再谈。祝你工作愉快。

兄刘怀钦,一九五二年九月二十九日

提取材料信息,说明上述材料对研究 20 世纪五十年代初的中国社会面貌有哪些史料价值。(14 分)

19. (15 分)阅读材料,回答问题。

材料

美国学者卡尔·多伊奇说:“1946 年欧洲普遍存在四个方面的经历和愿望。首先是安...人们希望一个联合的欧洲会好一些,并将保护他们免受共产主义扩张的明显威胁。其次是繁..人们设想,一个联合的欧洲将在经济上更加稳定与繁荣,也许不久就能达到美国水平的市场规模和人均收入。第三个问题是自由和机动....许多人渴望一个统一的欧洲在其整个区域恢复人员、观念和物资的自由流通。第四是权力....一个联合的欧洲也许可以为人民共同地恢复大部分权力,甚至恢复他们分别失去的领地。”

根据材料并结合所学知识,简析二战后的欧洲是如何实现美国学者卡尔·多伊奇所概括的四个目标的。(15 分)

参考答案

1-5 CABAA 6-10 BCACB 11-15 DBAAB

16. [示例](12分)

信息:长城是战国时期战争的写照。(2分)说明:由《战国时期列国长城分布图》可见,战国时期,王室衰微,礼崩乐坏。各国为争夺土地人口和资源,展开激烈的兼并战争,所以各国之间普遍修筑有长城。(4分)

信息:长城的建造,也反映出秦中央集权制度的优势和政府效能的提升,是国力强大的体现。(2分)说明:由《秦长城示意图》可知,秦代,统一的多民族国家形成,诸侯割据兼并的战乱局面结束,郡县制实施。随着统一的完成,分布于列国之间的长城都被拆除,这体现出国家由分裂走向统一的历程。秦代长城主要位于北方边疆,体现出北方游牧文明与中原农耕文明的碰撞,反映出民族交融的历史进程。长城的建造,也反映出秦中央集权制度的优势和政府效能的提升,是国力强大的体现。(4分)

17. [示例](14分)

严复的人生历程是晚清中国近代化曲折历程的反映。(3分)

严复是洋务运动的受益者。作为中国最早的留学生之一,严复学习近代海军知识并且到英国留学,回国后担任了北洋水师学堂的总教习。但是,当时封建思想仍然顽固,守旧势力依然强大;严复自身也受到封建思想的束缚,所以他仍然坚持参加科举考试并企图获取功名。这一经历是晚清近代化曲折的反映,也体现出近代先进知识分子面对顽固守旧势力的无奈。(6分)

甲午战争失败以后,严复彻底放弃了科举考试的念头,全身投入到介绍西方进步学说和对民众的思想启蒙上,翻译了大批近代西方学术著作,反映了他自身思想的成熟和对近代化历程认识程度的加深。(5分)

18.【示例】(14分)

角度	信息提取(6分)	史料价值(8分)	
材料来源	材料选自一封抗美援朝战士亲属的家书	抗美援朝战士及其亲属的经历,是中华人民共和国成立初期社会面貌和社会精神的体现,其家书是研究20世纪五十年代中国社会的一手史料	
材料内容	抗美援朝战争反映了中华人民共和国成立初期,为巩固新生的政权所付出的巨大牺牲	可用于研究20世纪五十年代的中美关系和国内政治	书信从政治、经济、思想等方面反映了20世纪五十年代的社会情况。家书是建国初期社会面貌的一个缩影
	分配土地和农业丰收反映了中华人民共和国成立后,土地改革调动了农民生产积极性,促进农业生产恢复发展的情况	可用于研究20世纪五十年代农村土地制度变革和经济恢复状况	
	中华人民共和国成立后,人民群众积极参与农业生产,反映了保卫新生政权和投入国家经济建设热情高涨的情况	可用于研究20世纪五十年代爱国主义和社会主义精神文明建设	

19. [参考答案](15分)

二战后的欧洲百废待兴,美苏争霸及其对欧洲的分区治理是欧洲独立发展的最大障碍。为此,西欧国家通过舒曼计划,成立欧洲煤钢共同体,建立煤钢单一共同体市场,取消相关关税,为欧洲经济合作和战后繁荣奠定基础。此后,煤钢共同体与经济共同体、原子能共同体合并,成立欧洲共同体。(5分)

欧共体的成立,使欧洲在市场联盟和政治联盟中不断向前推进。随着欧洲经济实力的增强,西欧各国开始摆脱美国的控制发出自己的声音,推动了世界多极化趋势的发展。(5分)

20世纪90年代初期,欧共体向欧盟的过渡,使欧洲联合逐渐向政治经济实体发展,欧元的问世,成员国内部人才、资源、技术、市场的共享,以及共同外交和安全政策的出台,推动了战后欧洲实现战略安全、经济繁荣、自由流通、独立发展的目标,即美国学者卡尔·多伊奇所概括的四个目标。(5分)