

一、典例回顾：

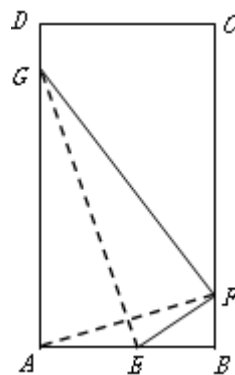
如图所示，有一块矩形空地 $ABCD$ ， $AB = 2$ km， $BC = 4$ km，根据周边环境及地形实际，当地政府规划在该空地内建一个筝形商业区 $A E F G$ ，筝形的顶点 A, E, F, G 为商业区的四个入口，其中入口 F 在边 BC 上（不包含顶点），入口 E, G 分别在边 AB, AD 上，且满足点 A, F 恰好关于直线 EG 对称，矩形内筝形外的区域均为绿化区。

(1) 请确定入口 F 的选址范围；

(2) 设商业区的面积为 S_1 ，绿化区的面积为 S_2 ，商业区的环境舒适度指数为 $\frac{S_2}{S_1}$ ，则入口

F 如何选址可使得该商业区的环境舒适度指数最大？

方法 1.



方法 2.

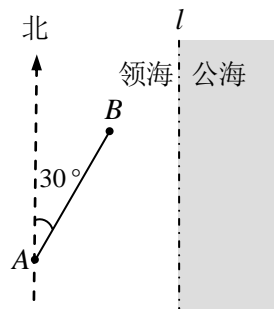
二、例题探究：

例 1. 一缉私艇巡航至距领海边界线 l （一条南北方向的直线）3.8 海里的 A 处，发现在其北偏东 30° 方向相距 4 海里的 B 处有一走私船正欲逃跑，缉私艇立即追击. 已知缉私艇的最大航速是走私船最大航速的 3 倍. 假设缉私艇和走私船均按直线方向以最大航速航行.

(1) 若走私船沿正东方向逃离，试确定缉私艇的追击方向，使得用最短时间在领海内拦截成功；

(参考数据： $\sin 17^\circ \approx \frac{\sqrt{3}}{6}$ ， $\sqrt{33} \approx 5.7446$)

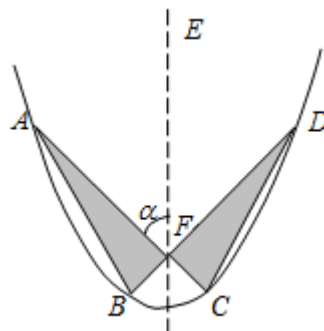
(2) 问：无论走私船沿何方向逃跑，缉私艇是否总能在领海内成功拦截？并说明理由.



例 2. 某人欲设计一个如图所示的“蝴蝶形图案（阴影区域）”其中 AC, BD 是过抛物线焦点 F 且互相垂直的两条弦，该抛物线的对称轴为 EF ，通径长为 4. 记 $\angle EFA = \alpha$ ， α 为锐角.（**通径**：经过抛物线焦点且垂直于对称轴的弦）

(1) 用 α 表示 AF 的长；

(2) 试建立“蝴蝶形图案”的面积 S 关于 α 的函数关系式，并设计 α 的大小，使“蝴蝶形图案”的面积最小.



三、课堂小结：

四、拓展延伸：

某个公园有个池塘，其形状为直角 $\triangle ABC$ ， $\angle C = 90^\circ$ ， $AB = 2$ 百米， $BC = 1$ 百米.

(1) 现在准备养一批供游客观赏的鱼，分别在 AB 、 BC 、 CA 上取点 D 、 E 、 F ，如图 (1)，使得 $EF \parallel AB$ ， $EF \perp ED$ ，为方便游客喂食，观赏鱼放养在 $\triangle DEF$ 内，求 $\triangle DEF$ 面积 S 的最大值；

(2) 现在准备新建造一个荷塘，分别在 AB 、 BC 、 CA 上取点 D 、 E 、 F ，如图 (2)，建造 $\triangle DEF$ 连廊（不考虑宽度）供游客休憩，且使 $\triangle DEF$ 为正三角形，求 $\triangle DEF$ 边长的最小值.

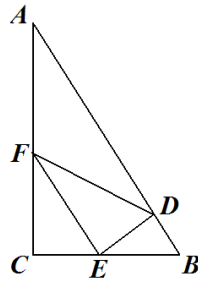


图 (1)

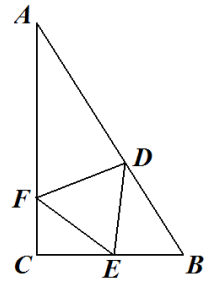
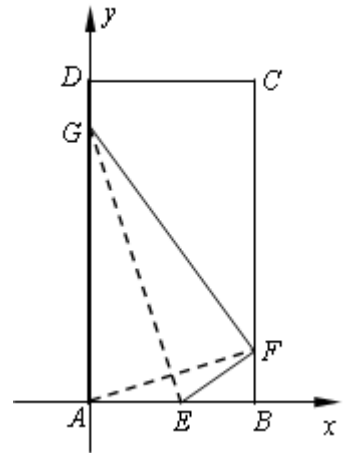


图 (2)

一、典例回顾：

解：（1）以 A 为原点， AB 所在直线为 x 轴，建立如图所示平面直角坐标系，则 $A(0,0)$ ，
 设 $F(2,2a)$ ($0 < 2a < 4$)，则 AF 的中点为 $(1,a)$ ，斜率为 a ，



而 $EG \perp AF$ ，故 EG 的斜率为 $-\frac{1}{a}$ ，

则 EG 的方程为 $y - a = -\frac{1}{a}(x - 1)$ ，

令 $x = 0$ ，得 $y_G = a + \frac{1}{a}$ ；2分

令 $y = 0$ ，得 $x_E = 1 + a^2$ ；4分

$$\text{由 } \begin{cases} 0 < y_G \leq 4 \\ 0 < x_E \leq 2BF \\ 0 < BF < 4 \end{cases} \text{ 得 } \begin{cases} 2 - \sqrt{3} \leq a \leq 2 + \sqrt{3} \\ 0 < a \leq 1 \\ 0 < a < 2 \end{cases} ,$$

$\therefore 2 - \sqrt{3} \leq a \leq 1$ ，

即入口 F 的选址需满足 BF 的长度范围是 $[4 - 2\sqrt{3}, 2]$ (单位: km)6分

(2) 因为 $S_1 = 2S_{\triangle AEG} = AE \cdot AG = \left(a + \frac{1}{a}\right)(1 + a^2) = a^3 + 2a + \frac{1}{a}$ ，

故该商业区的环境舒适度指数 $\frac{S_2}{S_1} = \frac{S_{ABCD} - S_1}{S_1} = \frac{S_{ABCD}}{S_1} - 1 = \frac{8}{S_1} - 1$ ，9分

所以要使 $\frac{S_2}{S_1}$ 最大，只需 S_1 最小.

设 $S_1 = f(a) = a^3 + 2a + \frac{1}{a}, a \in [2 - \sqrt{3}, 1]$ ，10分

则 $f'(a) = 3a^2 + 2 - \frac{1}{a^2} = \frac{3a^4 + 2a^2 - 1}{a^2} = \frac{(3a^2 - 1)(a^2 + 1)}{a^2} = \frac{(\sqrt{3}a - 1)(\sqrt{3}a + 1)(a^2 + 1)}{a^2}$ ，

令 $f'(a) = 0$ ，得 $a = \frac{\sqrt{3}}{3}$ 或 $a = -\frac{\sqrt{3}}{3}$ (舍)，12分

$a, f'(a), f(a)$ 的情况如下表：

a	$2 - \sqrt{3}$	$\left(2 - \sqrt{3}, \frac{\sqrt{3}}{3}\right)$	$\frac{\sqrt{3}}{3}$	$\left(\frac{\sqrt{3}}{3}, 1\right)$	1
$f'(a)$		-	0	+	
$f(a)$		减	极小	增	

故当 $a = \frac{\sqrt{3}}{3}$ ，即入口 F 满足 $BF = \frac{2}{3}\sqrt{3}$ km 时，该商业区的环境舒适度指数最大.16分

二、例题探究：

1. 解：（1）设缉私艇在 C 处与走私船相遇（如图甲），

依题意， $AC = 3BC$ 2 分

在 $\triangle ABC$ 中，由正弦定理得，

$$\sin \angle BAC = \frac{BC}{AC} \sin \angle ABC = \frac{\sin 120^\circ}{3} = \frac{\sqrt{3}}{6}.$$

因为 $\sin 17^\circ \approx \frac{\sqrt{3}}{6}$ ，所以 $\angle BAC = 17^\circ$.

从而缉私艇应向北偏东 47° 方向追击. 5 分

在 $\triangle ABC$ 中，由余弦定理得，

$$\cos 120^\circ = \frac{4^2 + BC^2 - AC^2}{8BC},$$

$$\text{解得 } BC = \frac{1 + \sqrt{33}}{4} \approx 1.68615.$$

又 B 到边界线 l 的距离为 $3.8 - 4\sin 30^\circ = 1.8$.

因为 $1.68615 < 1.8$ ，所以能在领海上成功拦截走私船. 8 分

（2）如图乙，以 A 为原点，正北方向所在的直线为 y 轴建立平面直角坐标系 xOy .

则 $B(2, 2\sqrt{3})$ ，设缉私艇在 $P(x, y)$ 处（缉私艇恰好截住走私船的位置）与走私

$$\text{船相遇，则 } \frac{PA}{PB} = 3, \text{ 即 } \frac{\sqrt{x^2 + y^2}}{\sqrt{(x-2)^2 + (y-2\sqrt{3})^2}} = 3.$$

$$\text{整理得，} \left(x - \frac{9}{4}\right)^2 + \left(y - \frac{9}{4}\sqrt{3}\right)^2 = \frac{9}{4}, \text{ 12 分}$$

所以点 $P(x, y)$ 的轨迹是以点 $\left(\frac{9}{4}, \frac{9}{4}\sqrt{3}\right)$ 为圆心，

$\frac{3}{2}$ 为半径的圆. 因为圆心 $\left(\frac{9}{4}, \frac{9}{4}\sqrt{3}\right)$ 到领海边界线 l ：

$x = 3.8$ 的距离为 1.55 ，大于圆半径 $\frac{3}{2}$ ，

所以缉私艇能在领海内截住走私船. 14 分

答：（1）缉私艇应向北偏东 47° 方向追击；

（2）缉私艇总能在领海内成功拦截走私船. 16 分

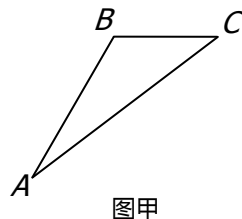
2. 【解】（1）由抛物线的定义知， $AF = AF \cdot \cos \alpha + 2$ ，解得 $AF = \frac{2}{1 - \cos \alpha}$ ， $\alpha \in \left(0, \frac{\pi}{2}\right)$.

$$\text{（2）据（1）同理可得 } BF = \frac{2}{1 - \cos\left(\frac{\pi}{2} + \alpha\right)} = \frac{2}{1 + \sin \alpha},$$

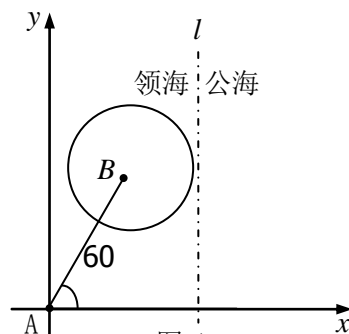
$$CF = \frac{2}{1 - \cos(\pi + \alpha)} = \frac{2}{1 + \cos \alpha}, \quad DF = \frac{2}{1 - \cos\left(\frac{3\pi}{2} + \alpha\right)} = \frac{2}{1 - \sin \alpha}.$$

所以“蝴蝶形图案”的面积

$$S = \frac{1}{2} \cdot \frac{2}{1 - \cos \alpha} \cdot \frac{2}{1 + \sin \alpha} + \frac{1}{2} \cdot \frac{2}{1 + \cos \alpha} \cdot \frac{2}{1 - \sin \alpha}, \text{ 即 } S = \frac{4(1 - \sin \alpha \cos \alpha)}{\sin^2 \alpha \cos^2 \alpha}, \alpha \in \left(0, \frac{\pi}{2}\right).$$



图甲



图乙

令 $t = \frac{1}{\sin \alpha \cos \alpha}$, 则 $S = 4(t^2 - t), t \in [2, +\infty)$, 所以当 $t = 2$, 即 $\alpha = \frac{\pi}{4}$ 时, S 的最小值为 8.

答: 当 $\alpha = \frac{\pi}{4}$ 时, 可使“蝴蝶形图案”的面积最小.

四、拓展延伸:

解: (1) $Rt \triangle ABC$ 中, $\angle C = 90^\circ$, $AB = 2$ 百米, $BC = 1$ 百米.

$\therefore \cos B = \frac{BC}{AB} = \frac{1}{2}$, 可得 $B = 60^\circ \because EF // AB, \therefore \angle CEF = \angle B = 60^\circ$,

设 $\frac{CE}{CB} = \lambda (0 < \lambda < 1)$, 则 $CE = \lambda CB = \lambda$ 百米,

在 $Rt \triangle CEF$ 中, $EF = 2CE = 2\lambda$ 百米, C 到 FE 的距

离 $d = \frac{\sqrt{3}}{2} CE = \frac{\sqrt{3}}{2} \lambda$ 百米,

$\therefore C$ 到 AB 的距离为 $\frac{\sqrt{3}}{2} BC = \frac{\sqrt{3}}{2}$ 百米,

\therefore 点 D 到 EF 的距离为 $h = \frac{\sqrt{3}}{2} - \frac{\sqrt{3}}{2} \lambda = \frac{\sqrt{3}}{2} (1 - \lambda)$ 百米,

可得 $S_{\triangle DEF} = \frac{1}{2} EF \cdot h = \frac{\sqrt{3}}{2} \lambda (1 - \lambda)$ 平方百米,

$\therefore \lambda(1 - \lambda) \leq \frac{1}{4} [\lambda + (1 - \lambda)]^2 = \frac{1}{4}$, 当且仅当 $\lambda = \frac{1}{2}$ 时等号成立.

\therefore 当 $\lambda = \frac{1}{2}$ 时, 即 E 为 AB 中点时, $S_{\triangle DEF}$ 的最大值为 $\frac{\sqrt{3}}{8}$ 平方百米.

(2) 设正 $\triangle DEF$ 的边长为 a , $\angle CEF = \alpha$ 则 $CF = a \cdot \sin \alpha$, $AF = \sqrt{3} - a \cdot \sin \alpha$

设 $\angle EDB = \angle 1$, 可得 $\angle 1 = 180^\circ - \angle B - \angle DEB = 120^\circ - \angle DEB$,

$\alpha = 180^\circ - 60^\circ - \angle DEB = 120^\circ - \angle DEB$

$\therefore \angle ADF = 180^\circ - 60^\circ - \angle 1 = 120^\circ - \alpha$ 在 $\triangle ADF$ 中, $\frac{a}{\frac{1}{2}} = \frac{\sqrt{3} - a \sin \alpha}{\sin(120^\circ - \alpha)}$,

化简得 $a[2\sin(120^\circ - \alpha) + \sin \alpha] = \sqrt{3}$,

$\therefore a = \frac{\sqrt{3}}{2\sin \alpha + \sqrt{3}\cos \alpha} = \frac{\sqrt{3}}{\sqrt{7}\sin(\alpha + \phi)} \geq \frac{\sqrt{3}}{\sqrt{7}} = \frac{\sqrt{21}}{7}$

(其中 ϕ 是满足 $\tan \phi = \frac{\sqrt{3}}{2}$ 的锐角)

$\therefore \triangle DEF$ 边长最小值为 $\frac{\sqrt{21}}{7}$.

