

# 仪征市 2018—2019 学年第一学期期中调研测试

## 高一历史

分值：120 分 时间：100 分钟

### 第 I 卷 选择题

一、单项选择题：在每题列出的四个选项中，只有一项是最符合题目要求的（本部分共 30 题，每题 2 分，共 60 分）。

1. “问我祖先来何处，山西洪洞大槐树。祖先故居叫什么，大槐树下老鸦窝。”数百年来，这首民谣在京津冀鲁豫及江淮地区广为传唱，妇孺皆知，久而久之，形成了一种独特的寻根文化。影响“寻根文化”的主要因素是

- A. 神话传说                      B. 世袭观念                      C. 地理位置                      D. 宗法制度

2. 《史记·齐太公世家》：“于是武王已平商而王天下，封师尚父（即姜尚）于齐营丘……”。这段材料反映了西周时期实行的政治制度是

- A. 宗法制                      B. 分封制                      C. 郡县制                      D. 郡国并行制

3. 《经世大典序录》载：“中统、至元间，皆以省官出领其事……其官皆以宰执行某处省事系衔。”材料描述了元代

- A. 分封制                      B. 郡县制                      C. 郡国并行制                      D. 行省制

4. 鉴于历史上丞相“专权乱政”、妨碍皇权的教训，朱元璋采取的措施是

- A. 废丞相                      B. 设立行省制                      C. 设立郡国并行制                      D. 实行察举制

5. 下图是连环画《水浒传》中的一幅，图中的铁匠铺属于




一日，鲁智深来到五台山福地牌楼前的小市镇买些酒吃，听到叮叮当当的去处，却是三个人在那里打铁。他进去说打禅杖和戒刀。

- A. 官营手工业                      B. 私营手工业                      C. 家庭手工业                      D. 田庄手工业


6. 古代文人常以诗词来描绘古代中国丰富的商业活动。下列诗词中，描绘的内容与其他选项不同的是

- A. “夜市桥边火，春风寺外船”                      B. “草市迎江货，津桥税海商”  
C. “柳梢挂月黄昏后，夜市张灯白昼然”                      D. “夜市千灯照碧云，高楼红袖客纷纷”

7. 清代蒋焘《踏车曲》描述“左足才过右足续，踏水浑如在平陆。高田低田足灌沃。不惜车劳人力尽，但愿秋成获嘉谷。”材料描述了下图哪一工具




A. 翻车



B. 铁犁牛耕



C. 高转筒车



D. 耨车

8. 宋真宗时因“京师衢巷狭隘”，加以开户。由于店铺开设越来越多，有的店铺连通衢大道也要侵占一番，因而到宋徽宗时候，不得不征收“侵街房廊钱”。这反映出当时
- A. 商业活动不受时间限制  
B. 政府摒弃传统抑商政策  
C. 城市中坊市界限被打破  
D. 官府不再监管市的交易
9. 现在网络穿越小说盛行，小华也想写一部以满足自己梦回盛唐的夙愿，请问小说中符合历史事实的是：
- ①使用交子  
②使用粉彩的酒杯喝酒  
③使用灌钢法炼制的长剑  
④购买精美的丝织品
- A. ①②  
B. ①③  
C. ①④  
D. ③④
10. 明朝中后期，苏州东城“皆习机业，工匠各有专能，匠有常主（机户），计日受值”，清朝前期又出现了“计工受值”。这一现象说明当时的苏州
- A. 官营手工业相当发达  
B. 机户没有人身自由  
C. 小农经济走向衰落  
D. 出现资本主义萌芽
11. 明朝政府下令：禁止建造远洋船只，禁止保留超过两根以上的桅杆帆船。从此，船员只得在内地小船上当雇工，郑和的大船因搁置而烂掉。以下对材料理解正确的是
- A. 明朝大力支持民间贸易  
B. 明朝禁绝一切贸易  
C. 明朝实行海禁政策  
D. 明朝造船技术落后
12. 下列关于 1842 年中英《南京条约》内容的表述，正确的是
- A. 允许在通商口岸办工厂  
B. 赔款 2 亿两白银  
C. 英商进出口货物缴纳的税款，中国须与英国商量  
D. 开放天津等 5 处为通商口岸
13. 《泰晤士报》驻华首席记者莫里循曾居住北京达 20 余年（1897—1920 年），亲历了近代中国一系列重大历史事件。他的大量报道、通讯与日记成为研究这一段中国历史的重要素材。下面这些报道，你认为不可能成为他研究素材的是
- A. 鸦片战争  
B. 八国联军侵华  
C. 大总统的誓词  
D. 五四学生游行
14. 钱穆先生在他的讲演中提出了一些对太平天国的看法：“他们对下层民众，想推行均田制度，粗浅一些的社会主义，大抵他们是有此想法的。”能够证明这一观点的有力证据是
- A. 定都天京  
B. 颁布《天朝田亩制度》  
C. 发动金田起义  
D. 提出《资政新篇》
15. “（1864 年）7 月 19 日，湘军掘地道轰塌太平门城垣 20 余丈，蜂拥抢入……至 21 日，入城湘军，肆意焚掠，繁华的南京城顿成瓦砾。”这段材料所描述事件标志着
- A. 鸦片战争的战败  
B. 太平天国运动的失败  
C. 甲午中日战争的战败  
D. 义和团运动的失败
16. 19 世纪末“对欧洲人的仇恨如同烈火一般蔓延到全中国。……一场针对外国势力的仇恨和恶作剧以一种古老的形式爆发出来。”（H·G·韦尔斯《世界史纲》）这段材料描述的事件是
- A. 三元里人民抗英斗争  
B. 太平天国运动  
C. 义和团运动  
D. 黄海海战
17. 一位学者在他的著作中说，在 20 世纪的大幕拉开的时候，当时的世界大国们在东方进行了一次很不光彩的集体亮相，这一“集体亮相”带来的严重后果是
- A. 第二次鸦片战争战败  
B. 签订《南京条约》  
C. 签订《辛丑条约》  
D. 南京大屠杀

18. 叶圣陶在一则日记中写到：“课后阅读报纸，见专电栏中有云：武昌已为革命党所据，新军亦起而相应……从此而万恶之政府已推倒，亦未可知也。”日记中所指的历史事件是
- A. 黄花岗起义      B. 武昌起义      C. 秋收起义      D. 南昌起义
19. “共争青岛归还，同看国贼罢黜；欢呼学生复课，庆贺商店开门。”这副对联反映的历史事件是
- A. 辛亥革命      B. 五四运动  
C. 国民革命      D. 中共一大
20. 2017年10月31日下午，嘉兴南湖迎来了新一届的中共中央政治局常委一行七人。习近平总书记站在湖边，颇为感慨地说：“小小红船承载千钧，播下了中国革命的火种，开启了中国共产党的跨世纪航程。”与材料相关的历史事件是
- A. 秋收起义      B. 中共一大  
C. 中共八大      D. 十一届三中全会
21. 1927年1月出版的《中国农民问题》记载：“凡我军所到，农民必担茶担水，以相慰劳，跋涉险阻，以为向导。常有手持木棍，截击敌兵，夺其枪械，以为我军效力。”材料中所提及的“军”和事件指的是
- A. 解放军和解放战争      B. 湖北新军和辛亥革命  
C. 国民革命军和北伐      D. 八路军和抗日战争
22. 在瑞典作家扬·米达尔的书中，记录了国共十年对峙时期(1927-1937年)农民的感受：“国民党逃了，红军来了，我们分到了土地。从那时候起，日子好起来了。手上有土地，不用交租，我们就够吃了。”农民生活的变化直接得益于
- A. 北伐战争      B. 百团大战  
C. 淞沪会战      D. 土地革命
23. 这是一组大型声乐套曲：“健儿巧渡金沙江……铁索桥上显威风……雪山低头迎远客，草毯泥毡扎营盘。”此曲所咏事件发生的根本原因是
- A. 国民革命失败      B. 党内“左”倾路线的错误指挥  
C. 中华苏维埃共和国的成立      D. 日本制造卢沟桥事变大举侵华
24. 西方学者曾这样描述某一历史事件：“一切都变了，这是分水岭。……这二十几个人在这里开会，是为了正式确定长征的领导和方向的彻底改变。……后来很多人都说，这是整个中国革命史上最重大的一个事件。”该事件是
- A. 中共一大      B. 中共七大  
C. 遵义会议      D. 洛川会议
25. “麻雀叫，麻雀叫，日本人，真凶暴。夺我东三省，杀我们同胞。小朋友！大家起来闹，日本糖果我不吃，东洋玩具我不要。”这首童谣的出现是由于发生了
- A. 华北事变      B. 九一八事变  
C. 七七事变      D. 八一三事变
26. 1940年9月5日，周恩来在给中央的电报中说：“（此次）大战是第一件兴奋人心的大事，……今日大公报、新华社论称赞华北八路军战绩，蒋有电嘉奖，何亦允发子弹。”材料中所说的“大战”是
- A. 淞沪会战      B. 平型关大捷  
C. 台儿庄战役      D. 百团大战
27. 细菌战是日军侵华战争的重要形式，残害了许许多多的中国军民。下列与此直接有关的是
- A. 发动九一八事变      B. 发动七七事变

- C. 制造南京大屠杀  
D. 组建七三一部队
28. “1947 年年中似乎标志着战争形势的一个转折点。……共产党军队的规模已稳步地扩大……共产党在 1947 年下半年发起了全面进攻。”下列属于这一“转折点”中具有深远意义的战略行动是
- A. 挺进大别山  
B. 平津战役  
C. 淮海战役  
D. 渡江战役
29. 下图是解放战争时期我军某一战役的作战形势图，对其解读正确的是



- A. 粉碎了日本三个月灭亡中国的计划  
B. 是抗战以来正面战场取得的最大胜利  
C. 解放了长江以北，为解放长江以南奠定了基础  
D. 推翻了南京国民政府的统治
30. 1954 年 9 月 21 日《人民日报》报道：“(20 日)下午五时五十五分，执行主席宣布表决结果：投票数共一千一百九十七张，同意票一千一百九十七张。这时全场欢腾，全体起立，为这个伟大文献的诞生而热烈欢呼。”投票通过这部“伟大文献”的会议是
- A. 七届二中全会  
B. 第一届政协会议  
C. 第一届全国人大  
D. 七大

## 第 II 卷 非选择题

### 二、材料解析题（本部分共四大题，每题 15 分，共 60 分）

31. (15 分) 官僚体制是中国古代行政管理的重要形式。从秦汉起，官僚体制就是中国制度的核心问题，而这个核心问题又可以分成两个大的子问题，一是官僚体系内部的权力制衡，二是官僚的选拔问题。阅读下列材料，回答问题：

**材料一** 东汉末年开，朝廷采用由地方名人将本地士人按才能分别评定为九等（品），朝廷再按等任命的人才选拔制度。但这一制度逐渐出现很多弊端，世家大族日益把持选官大权，出现“累世公卿”的现象。到魏晋南北朝时期，家世门第的高低日益成为选官的标准，以致出现“上品无寒门，下品无势族”的局面。——改编自岳麓版教材

**材料二** 科举之善，在能破朋党之私。……不能应试者，有司虽欲徇私举之而不得；苟能应试，终必有若干人可以获举也。此实选举之官徇私舞弊之限制。

——吕思勉《中国制度史》

(1) 材料一描述的选官制度是什么？主要存在于哪一历史时期？（4 分）

(2) 据材料二，结合所学知识，归纳科举制的历史进步性。（3 分）

(3) 为了解决“官僚体系内部的权力制衡”问题，唐朝的统治者采取了怎样的有效措施？它是如何实现权力制衡的？（6分）

(4) 综合上述材料，谈谈你从中国古代官僚体制中得到哪些启示？（2分）

32. (15分) 民族精神是一个国家、一个民族兴旺的精神支柱。近代中国多少仁人志士，抛头颅，洒热血，最终取得了民族独立，为中华民族的复兴奠定了基础，也铸就了伟大的民族精神。阅读下列材料，回答问题：

**材料一** 1840年以来，中国因外患而遭受的每一次失败都产生过体现警悟的先觉者。但他们的周围和身后没有社会意义的群体，他们走得越远就越是孤独。甲午打败，“成中国之巨祸”，中国的民族具有群体意义的觉醒也因此而开始。这是近代百年的一个历史转机。  
——陈旭麓《近代中国社会的新陈代谢》

**材料二** “五四”运动是“中国人的国家情感存在与力量的突出证明，如果还有什么地方的人对中国人爱国主义的力量的普及程度抱怀疑态度，那么这种证明就是深切而且令人信服的教训。”“（五四）新文化运动为中国未来的希望打下了最为坚实的基础。”  
——杜威《中国人的国家情感》

**材料三** 中国人民抗日战争胜利，是近代以来中国抗击外敌入侵的第一次完全胜利。这一伟大胜利彻底粉碎了日本帝国奴役中国的图谋，洗刷了近代以来中国抗击外来侵略屡战屡败的民族耻辱。这一伟大胜利，重新确立了中国在世界上的大国地位，使中国人民赢得了世界爱好和平人民的尊敬。这一伟大胜利，开辟了中华民族伟大复兴的光明前景，开启了古老中国凤凰涅槃、浴火重生的新征程。

——《习近平在抗战胜利70周年的重要讲话》

(1) 如何理解材料一“甲午打败，‘成中国之巨祸’”？列举一例证明19世纪末“群体意义的觉醒开始”？（4分）

(2) 材料二所说的“中国人的国家情感”具体指的是什么？结合所学知识分析五四运动“为中国未来的希望”打下了哪些“最为坚实的基础”？（6分）

(3) 结合所学知识回答，抗日战争取得胜利的根本原因是什么？根据材料三并结合所学知识回答抗日战争胜利的意义。（5分）

33. (15分) 中国政治文明的演进经历了漫长而艰难的过程。阅读材料，回答问题。

**材料一** “论中国政治制度，秦汉是一个大变动。”“倘使我们说，中国传统政治是专制的，政府由一个皇帝来独裁，这一说法，用来讲明清两代是可以的。”  
——黄仁宇《中国大历史》

**材料二** 第一条 中华民国由中华人民组织之。第二条 中华民国之主权属于国民全体。……第四条 中华民国以参议院临时大总统、国务员、法院行使其统治权。……第四十四条 国务员辅佐临时大总统负其责任。

——《中华民国临时约法·总纲》

**材料三** 新中国的建立，使中国实现了从两千多年的封建专制政治、近代以来照搬照抄西方民主政治模式的失败尝试向新型人民民主政治的伟大跨越。

——《中国民主政治建设》白皮书（2005年10月）

(1) 结合所学知识，说明材料一中秦朝政治制度“大变动”指的是什么？请用明清时期各一个典型史实证明材料一中“政府由一个皇帝来独裁”的观点。(4分)

(2) 据材料二，概括《临时约法》的主要内容。结合所学知识，分析其进步意义。(6分)

(3) 根据材料三并结合所学知识，指出我国“新型人民民主政治”的主要表现。(3分)


(4) 综合上述材料，谈谈政治文明演进的总体趋势。(2分)

34. (15分) 阅读下列材料：

**材料一** “徐州古丰县，有村曰朱陈。……机梭声札札，牛驴走纭纭。女汲涧中水，男采山上薪。……有财不行商，有丁不入军。家家守村业，头白不出门。”

——白居易《朱陈村》

**材料二**



图一



图二 清代北京前门商业区

**材料三** 明代隆庆、万历年间，蒲州张四维家族、王崇古家族、马自强家族，均是大商人家庭，三家联姻为亲戚……增强了其商业竞争实力。……在亲缘集团的基础上，晋商又逐渐发展为地缘组织。

——张正明《明清时期的山西盐商》

**材料四** 朕（雍正帝）观四民（指士、农、工、商）之业，士之外，农为最贵。凡士工商贾，皆赖食于农，以故农为天下之本务，而工贾皆其末也。

——《大清会典事例》

请回答：

(1) 材料一反映了我国古代传统社会农业生产的基本模式是什么？根据材料一和所学知识，概括其特点。(5分)

(2) 材料二中图一所示的生产工具最早出现于什么时期？图一和图二反映的经济活动之间有什么内在联系？(4分)

(3) 材料三反映了明清时期商业发展出现了什么新现象？(2分)

(4) 材料四反映了哪一经济政策？有何消极影响？(4分)