

# 江苏省仪征中学 2020-2021 学年度第一学期高三数学周三练习 7

## 一、单项选择题

1. 已知  $i$  为虚数单位，则下列结论错误的是 ( )

- A. 复数  $z = \frac{1+2i}{1-i}$  的虚部为  $\frac{3}{2}$       B. 复数  $z = \frac{2+5i}{-i}$  的共轭复数  $\bar{z} = -5-2i$
- C. 复数  $z = \frac{1}{2} - \frac{1}{2}i$  在复平面对应的点位于第二象限      D. 复数  $z$  满足  $\frac{1}{z} \in \mathbf{R}$ ，则  $z \in \mathbf{R}$

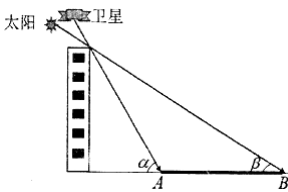
2. 有四个关于三角函数的命题：

$$p_1: \exists x \in \mathbf{R}, \sin x + \cos x = 2; \quad p_2: \exists x \in \mathbf{R}, \sin 2x = \sin x;$$

$$p_3: \forall x \in \left[-\frac{\pi}{2}, \frac{\pi}{2}\right], \sqrt{\frac{1+\cos 2x}{2}} = \cos x; \quad p_4: \forall x \in (0, \pi), \sin x > \cos x; \quad \text{其中真命题是 ( )}$$

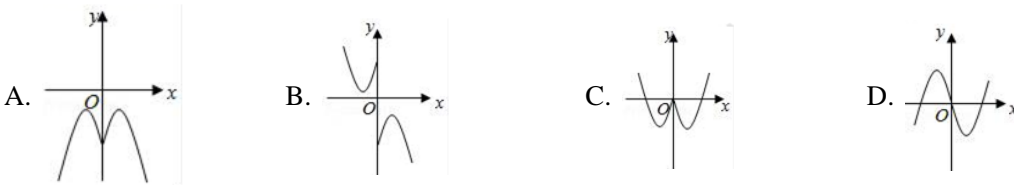
- A.  $p_1, p_4$       B.  $p_2, p_3$       C.  $p_3, p_4$       D.  $p_2, p_4$

3. 在高分辨率遥感影像上，阴影表现为低亮度值，其分布范围反映了地物成像时遮光情况的二维信息，可以通过线段  $AB$  长度（如图：粗线条部分）与建筑物高度的几何关系来确定地表建筑物的高度数据。在不考虑太阳方位角对建筑物阴影影响的情况下，太阳高度角、卫星高度角与建筑物高度、线段  $AB$  的关系如图所示，在某时刻测得太阳高度角为  $\beta$ ，卫星高度角为  $\alpha$ ，阴影部分长度为  $L$ ，由此可计算建筑物得高度为 ( )



- A.  $\frac{L(\tan \alpha - \tan \beta)}{\tan \alpha \cdot \tan \beta}$       B.  $\frac{L \tan \alpha \tan \beta}{\tan \alpha - \tan \beta}$       C.  $\frac{L \tan \alpha \tan \beta}{\tan(\alpha - \beta)}$       D.  $\frac{L \tan(\alpha - \beta)}{\tan \alpha \tan \beta}$

4. 函数  $y = \ln|x| - x^2$  的图象大致为 ( )



5. 王昌龄《从军行》中两句诗为“黄沙百战穿金甲，不破楼兰终不还”，其中后一句中“攻破楼兰”是“返回家乡”的 ( )

- A. 充分不必要条件      B. 必要不充分条件  
 C. 充分必要条件      D. 既不充分也不必要条件

6. 在  $\triangle ABC$  中， $AB = 3AC = 9$ ， $\overrightarrow{AC} \cdot \overrightarrow{AB} = \overrightarrow{AC}^2$ ，点  $P$  是  $\triangle ABC$  所在平面内一点，则当

$$\overrightarrow{PA}^2 + \overrightarrow{PB}^2 + \overrightarrow{PC}^2 \text{ 取得最小值时， } \overrightarrow{PA} \cdot \overrightarrow{BC} =$$

A. 24

B.  $6\sqrt{2}$

C.  $\frac{9}{2}$

D. -24

7. 已知函数  $f(x) = x^2 - 2ax + a$  在区间  $(-\infty, 1)$  上有最小值, 则函数  $g(x) = \frac{f(x)}{x}$  在区间  $(1, +\infty)$  上一定 ( )

A. 是减函数

B. 是增函数

C. 有最小值

D. 有最大值

8. 已知函数  $f(x) = \begin{cases} x^2 + 4a, & x > 0 \\ 1 + \log_a |x-1|, & x \leq 0 \end{cases}$  ( $a > 0$ , 且  $a \neq 1$ ) 在  $R$  上单调递增, 且关于  $x$  的方程

$|f(x)| = x + 3$  恰有两个不相等的实数解, 则  $a$  的取值范围是 ( )

A.  $(\frac{3}{4}, \frac{13}{16}]$

B.  $(0, \frac{3}{4}] \cup \{\frac{13}{16}\}$

C.  $[\frac{1}{4}, \frac{3}{4}) \cup \{\frac{13}{16}\}$

D.  $[\frac{1}{4}, \frac{3}{4}] \cup \{\frac{13}{16}\}$

## 二、多项选择题

9. 设集合  $M = \{y | y = -e^x + 4\}$ ,  $N = \{x | y = \lg[(x+2)(3-x)]\}$ , 则下列关系正确的是 ( )

A.  $\complement_{\mathbb{R}} M \subseteq \complement_{\mathbb{R}} N$

B.  $N \subseteq M$

C.  $M \cap N = \emptyset$

D.  $\complement_{\mathbb{R}} N \subseteq M$

10. 已知向量  $\vec{a} = (2, 1)$ ,  $\vec{b} = (1, -1)$ ,  $\vec{c} = (m-2, -n)$ , 其中  $m, n$  均为正数, 且  $(\vec{a} - \vec{b}) \perp \vec{c}$ , 下列说法正确的是 ( )

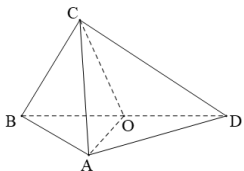
A.  $\vec{a}$  与  $\vec{b}$  的夹角为钝角

B. 向量  $\vec{a}$  在  $\vec{b}$  方向上的投影为  $\frac{\sqrt{5}}{5}$

C.  $2m + n = 4$

D.  $mn$  的最大值为 2

11. 如图, 在三棱锥  $C-ABD$  中,  $\triangle ABD$  与  $\triangle CBD$  是全等的等腰直角三角形,  $O$  为斜边  $BD$  的中点,  $AB=4$ , 二面角  $A-BD-C$  的大小为  $60^\circ$ ; 以下结论正确的是 ( )



A.  $AC \perp BD$

B.  $\triangle AOC$  为正三角形

C. 四面体  $A-BCD$  外接球的表面积为  $32\pi$

D.  $\cos \angle ADC = \frac{\sqrt{3}}{4}$

12. 在数学中, 布劳威尔不动点定理是拓扑学里一个非常重要的不动点定理, 它可应用到有限维空间, 并构成一般不动点定理的基石. 布劳威尔不动点定理得名于荷兰数学家鲁伊兹·布劳威尔 ( $L.E. J. Brouwer$ ),

简单的讲就是对于满足一定条件的连续函数  $f(x)$ , 存在一个点  $x_0$ , 使得  $f(x_0) = x_0$ , 那么我们称该函数为“不动点”函数, 下列为“不动点”函数的是 ( )

A.  $f(x) = 2^x + x$

B.  $g(x) = x^2 - x - 3$

C.  $f(x) = \begin{cases} 2x^2 - 1, & x \leq 1 \\ |2 - x|, & x > 1 \end{cases}$

D.  $f(x) = \frac{1}{x} - x$

### 三、填空题

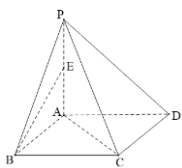
13. 已知函数 \_\_\_\_\_, 则  $f(x)$  的值域是\_\_\_\_\_.

$$f(x) = \begin{cases} x^2, & x \leq 1 \\ x + \frac{4}{x} - 3, & x > 1 \end{cases}$$

14. 设三角形  $ABC$  的内角  $A, B, C$  所对的边长分别是  $a, b, c$ , 且  $B = \frac{\pi}{3}$ , 若  $\triangle ABC$  不是钝角三角形, 则

$\frac{2a}{c}$  的取值范围是\_\_\_\_\_.

15. 四棱锥  $P-ABCD$  的底面是一个正方形,  $PA \perp$  平面  $ABCD$ ,  $PA = AB = 4$ ,  $E$  是棱  $PA$  的中点, 则异面直线  $BE$  与  $AC$  所成角的余弦值是\_\_\_\_\_.



16. 设  $x > 0, y > 0, x + 2y = 3$ , 则  $\frac{(x+1)(2y+1)}{\sqrt{xy}}$  的最小值为\_\_\_\_\_.

### 四、解答题

17. ①在函数  $f(x) = \frac{1}{2} \sin(\omega x + \varphi)$  ( $\omega > 0, |\varphi| < \frac{\pi}{2}$ ) 的图像向右平移  $\frac{\pi}{12}$  个单位长度得到  $g(x)$  的图像,

$g(x)$  的图像关于原点对称, ②向量  $\vec{m} = (\sqrt{3} \sin \frac{\omega}{2} x, \cos \omega x), \vec{n} = (\frac{1}{2} \cos \frac{\omega}{2} x, \frac{1}{4})$ ,  $\omega > 0$ ,  $f(x) = \vec{m} \cdot \vec{n}$ ;

③函数  $f(x) = \cos \frac{\omega}{2} x \sin(\frac{\omega}{2} x + \frac{\pi}{6}) - \frac{1}{4}$  ( $\omega > 0$ ) 这三个条件中任选一个, 补充下面问题中, 并解答.

已知\_\_\_\_\_, 函数  $f(x)$  图像的相邻两条对称轴之间的距离为  $\frac{\pi}{2}$ .

(1) 求  $f(\frac{\pi}{6})$  的值; (2) 求函数  $f(x)$  在  $[0, \pi]$  上的单调递减区间.

注: 如果选择多个条件分别解答, 按第一个解答计分.

18. 已知函数  $f(x) = 3 - 2 \log_2 x, g(x) = \log_2 x$ .

(1) 当  $x \in [1, 4]$  时, 求函数  $h(x) = [f(x) + 1] \cdot g(x)$  的值域;

(2) 如果对任意的  $x \in [1, 4]$ , 不等式  $f(x^2) \cdot f(\sqrt{x}) > k \cdot g(x)$  恒成立, 求实数  $k$  的取值范围.

19. 在  $\triangle ABC$  中, 已知内角  $A, B, C$  所对的边分别为  $a, b, c$ , 向量  $\vec{m} = (\sqrt{3}, -2 \sin B)$ , 向量

$\vec{n} = (\cos B, \cos 2B)$ , 且  $\vec{m} \perp \vec{n}$ , 角  $B$  为锐角.

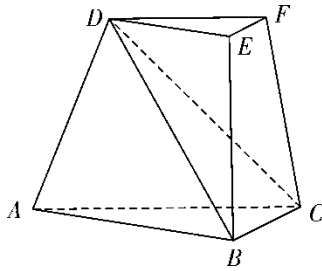
(1) 求角  $B$  的大小;

(2) 若  $b=2$ ，求  $\triangle ABC$  面积的最大值.

20. 如图，在三棱台  $ABC-DEF$  中，平面  $ACFD \perp$  平面  $ABC$ ， $\angle ACB = \angle ACD = 45^\circ$ ， $DC = 2BC$ .

(I) 证明： $EF \perp DB$ ;

(II) 求直线  $DF$  与平面  $DBC$  所成角的正弦值.



21. (本小题满分 12 分)

某钢管生产车间生产一批钢管，质检员从中抽出若干根对其直径（单位： $\text{mm}$ ）进行测量，得出这批钢管的直径  $X$  服从正态分布  $N(65, 4.84)$ .

(1) 当质检员随机抽检时，测得一根钢管的直径为  $73\text{mm}$ ，他立即要求停止生产，检查设备，请你根据所学知识，判断该质检员的决定是否有道理，并说明判断的依据；

(2) 如果钢管的直径  $X$  满足  $60.6\text{mm} - 69.4\text{mm}$  为合格品（合格品的概率精确到  $0.01$ ），现要从  $60$  根该种钢管中任意挑选  $3$  根，求次品数  $Y$  的分布列和数学期望.

（参考数据：若  $X \sim N(\mu, \sigma^2)$ ，则  $P(\mu - \sigma < X \leq \mu + \sigma) = 0.6826$ ；

$P(\mu - 2\sigma < X \leq \mu + 2\sigma) = 0.9544$ ； $P(\mu - 3\sigma < X \leq \mu + 3\sigma) = 0.9974$  .

22. 已知函数  $f(x) = x^2 \ln x - 2x$ .

(1) 求曲线  $y = f(x)$  在点  $(1, f(1))$  处的切线方程；

(2) 求证：存在唯一的  $x_0 \in (1, 2)$ ，使得曲线  $y = f(x)$  在点  $(x_0, f(x_0))$  处的切线的斜率为  $f(2) - f(1)$ ；

(3) 比较  $f(1.18)$  与  $-2.18$  的大小，并加以证明.