

南师附中 2019 届高三年级模拟考试

数 学

2019.05

注意事项:

1. 本试卷共 4 页, 包括填空题(第 1 题~第 14 题)、解答题(第 15 题~第 20 题)两部分. 本试卷满分为 160 分, 考试时间为 120 分钟.

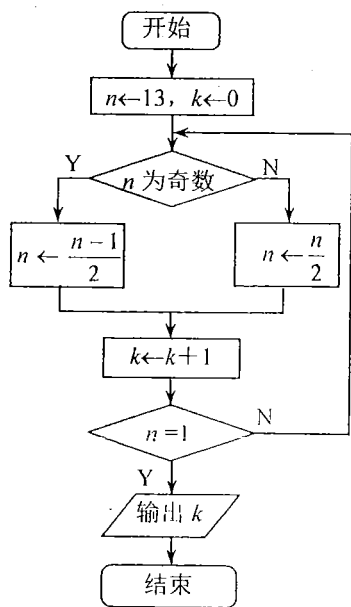
2. 答题前, 请务必将自己的姓名、学校、班级、学号写在答题卡的密封线内. 试题的答案写在答题卡上对应题目的答案空格内. 考试结束后, 交回答题纸.

参考公式:

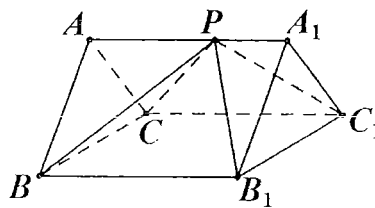
锥体的体积 $V = \frac{1}{3}Sh$, 其中 S 是锥体的底面积, h 是锥体的高.

一、填空题: 本大题共 14 小题, 每小题 5 分, 共计 70 分. 不需写出解答过程, 请把答案写在答题卡相应位置上.

1. 已知集合 $A = \{x | |x| \leq 1, x \in \mathbf{Z}\}$, $B = \{x | 0 \leq x \leq 2\}$, 则 $A \cap B =$ ▲ .
2. 已知复数 $z = (1 + 2i)(a + i)$, 其中 i 是虚数单位. 若 z 的实部与虚部相等, 则实数 a 的值为 ▲ .
3. 某班有学生 52 人, 现将所有学生随机编号, 用系统抽样方法, 抽取一个容量为 4 的样本, 已知 5 号、31 号、44 号学生在样本中, 则样本中还有一个学生的编号是 ▲ .
4. 3 张奖券分别标有特等奖、一等奖和二等奖. 甲、乙两人同时各抽取 1 张奖券, 两人都未抽得特等奖的概率是 ▲ .
5. 函数 $f(x) = \sqrt{x} + \log_2(1-x)$ 的定义域为 ▲ .
6. 下图是一个算法流程图, 则输出的 k 的值为 ▲ .



(第 6 题图)



(第 7 题图)

7. 若正三棱柱 $ABC-A_1B_1C_1$ 的所有棱长均为 2, 点 P 为侧棱 AA_1 上任意一点, 则四棱锥 $P-BCC_1B_1$ 的体积为 ▲ .
8. 在平面直角坐标系 xOy 中, 点 P 在曲线 $C: y=x^3-10x+3$ 上, 且在第四象限内. 已知曲线 C 在点 P 处的切线为 $y=2x+b$, 则实数 b 的值为 ▲ .
9. 已知函数 $f(x)=\sqrt{3}\sin(2x+\varphi)-\cos(2x+\varphi)$ ($0<\varphi<\pi$) 是定义在 \mathbf{R} 上的奇函数, 则 $f(-\frac{\pi}{8})$ 的值为 ▲ .
10. 如果函数 $f(x)=(m-2)x^2+2(n-8)x+1$ ($m, n \in \mathbf{R}$ 且 $m \geq 2, n \geq 0$) 在区间 $[\frac{1}{2}, 2]$ 上单调递减, 那么 mn 的最大值为 ▲ .
11. 已知椭圆 $\frac{x^2}{2}+y^2=1$ 与双曲线 $\frac{x^2}{a^2}-\frac{y^2}{b^2}=1$ ($a>0, b>0$) 有相同的焦点, 其左、右焦点分别为 F_1, F_2 , 若椭圆与双曲线在第一象限内的交点为 P , 且 $F_1P=F_1F_2$, 则双曲线的离心率为 ▲ .
12. 在平面直角坐标系 xOy 中, 点 A 的坐标为 $(0, 5)$, 点 B 是直线 $l: y=\frac{1}{2}x$ 上位于第一象限内的一点. 已知以 AB 为直径的圆被直线 l 所截得的弦长为 $2\sqrt{5}$, 则点 B 的坐标为 ▲ .
13. 已知数列 $\{a_n\}$ 的前 n 项和为 S_n , $a_1=1, a_2=2, a_{n+2}=\begin{cases} a_n+2, & n=2k-1, k \in \mathbf{N}^*, \\ 2a_n, & n=2k, k \in \mathbf{N}^*, \end{cases}$ 则满足 $2019 \leq S_m \leq 3000$ 的正整数 m 的所有取值为 ▲ .
14. 已知等边三角形 ABC 的边长为 2, $\vec{AM}=\vec{2MB}$, 点 N, T 分别为线段 BC, CA 上的动点, 则 $\vec{AB} \cdot \vec{NT} + \vec{BC} \cdot \vec{TM} + \vec{CA} \cdot \vec{MN}$ 取值的集合为 ▲ .

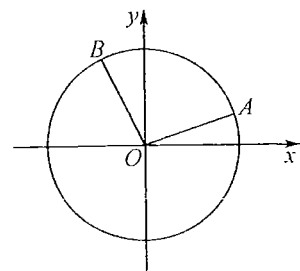
二、解答题: 本大题共 6 小题, 共计 90 分. 请在答题卡指定区域内作答, 解答时应写出文字说明、证明过程或演算步骤.

15. (本小题满分 14 分)

如图, 在平面直角坐标系 xOy 中, 以 x 轴正半轴为始边的锐角 α 的终边与单位圆 O 交于点 A , 且点 A 的纵坐标是 $\frac{\sqrt{10}}{10}$.

(1) 求 $\cos(\alpha-\frac{3\pi}{4})$ 的值;

(2) 若以 x 轴正半轴为始边的钝角 β 的终边与单位圆 O 交于点 B , 且点 B 的横坐标为 $-\frac{\sqrt{5}}{5}$, 求 $\alpha+\beta$ 的值.

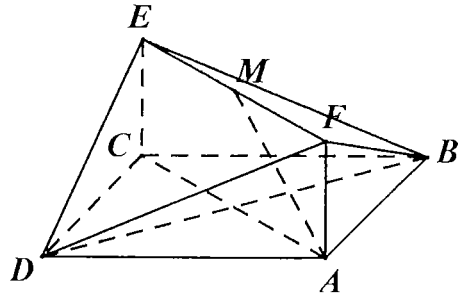


(第 15 题图)

16. (本小题满分 14 分)

如图, 已知正方形 $ABCD$ 和矩形 $ACEF$ 所在的平面互相垂直, $AB=\sqrt{2}$, $AF=1$, M 是线段 EF 的中点.

- (1) 求证: $AM \parallel$ 平面 BDE ;
- (2) 求证: $AM \perp$ 平面 BDF .

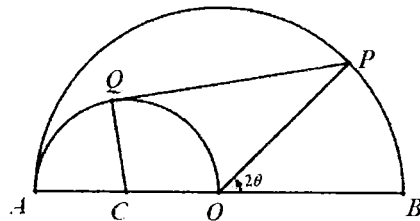


(第 16 题图)

17. (本小题满分 14 分)

某广告商租用了一块如图所示的半圆形封闭区域用于产品展示, 该封闭区域由以 O 为圆心的半圆及直径 AB 围成. 在此区域内原有一个以 OA 为直径、 C 为圆心的半圆形展示区, 该广告商欲在此基础上, 将其改建成一个凸四边形的展示区 $COPQ$, 其中 P 、 Q 分别在大半圆 O 与小半圆 C 的圆弧上, 且 PQ 与小半圆 C 相切于点 Q . 已知 AB 长为 40 米, 设 $\angle BOP$ 为 2θ . (上述图形均视作在同一平面内)

- (1) 记四边形 $COPQ$ 的周长为 $f(\theta)$, 求 $f(\theta)$ 的表达式;
- (2) 要使改建成的展示区 $COPQ$ 的面积最大, 求 $\sin \theta$ 的值.



(第 17 题图)

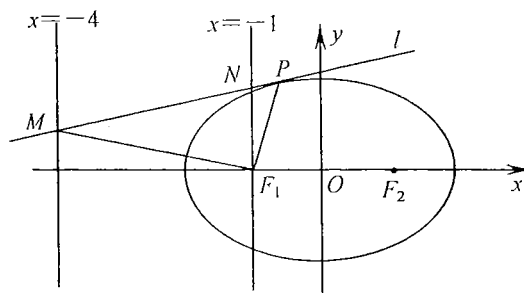
18. (本小题满分 16 分)

在平面直角坐标系 xOy 中, 已知椭圆 $C: \frac{x^2}{a^2} + \frac{y^2}{b^2} = 1 (a > b > 0)$ 的左、右焦点分别为 F_1, F_2 , 且点 F_1, F_2 与椭圆 C 的上顶点构成边长为 2 的等边三角形.

(1) 求椭圆 C 的方程;

(2) 已知直线 l 与椭圆 C 相切于点 P , 且分别与直线 $x = -4$ 和直线 $x = -1$ 相交于点

M, N . 试判断 $\frac{NF_1}{MF_1}$ 是否为定值, 并说明理由.



(第 18 题图)

19. (本小题满分 16 分)

已知数列 $\{a_n\}$ 满足 $a_1 \cdot a_2 \cdots a_n = 2^{\frac{n(n+1)}{2}}$ ($n \in \mathbf{N}^*$), 数列 $\{b_n\}$ 的前 n 项和 $S_n = \frac{n(b_1 + b_n)}{2}$

($n \in \mathbf{N}^*$), 且 $b_1 = 1, b_2 = 2$.

(1) 求数列 $\{a_n\}$ 的通项公式;

(2) 求数列 $\{b_n\}$ 的通项公式;

(3) 设 $c_n = \frac{1}{a_n} - \frac{1}{b_n \cdot b_{n+1}}$, 记 T_n 是数列 $\{c_n\}$ 的前 n 项和, 求正整数 m , 使得对于任意的

$n \in \mathbf{N}^*$ 均有 $T_m \geq T_n$.

20. (本小题满分 16 分)

设 a 为实数, 已知函数 $f(x) = axe^x, g(x) = x + \ln x$.

(1) 当 $a < 0$ 时, 求函数 $f(x)$ 的单调区间;

(2) 设 b 为实数, 若不等式 $f(x) \geq 2x^2 + bx$ 对任意的 $a \geq 1$ 及任意的 $x > 0$ 恒成立, 求 b 的取值范围;

(3) 若函数 $h(x) = f(x) + g(x)$ ($x > 0, x \in \mathbf{R}$) 有两个相异的零点, 求 a 的取值范围.

高三年级模拟考试

数学附加题

2019.05

注意事项:

1. 附加题供选修物理的考生使用.
2. 本试卷共 40 分, 考试时间 30 分钟.
3. 答题前, 考生务必将自己的姓名、学校、班级、学号写在答题卡的密封线内. 试题的答案写在答题纸上对应题目的答案空格内. 考试结束后, 交回答题纸.

21. 【选做题】在 A、B、C 三小题中只能选做 2 题, 每小题 10 分, 共计 20 分. 请在答卷纸指定区域内作答. 解答应写出文字说明、证明过程或演算步骤.

A. 选修 4—2: 矩阵与变换

已知矩阵 $A = \begin{bmatrix} 1 & 1 \\ 0 & -1 \end{bmatrix}$, 二阶矩阵 B 满足 $AB = \begin{bmatrix} 1 & 0 \\ 0 & 1 \end{bmatrix}$.

- (1) 求矩阵 B ;
- (2) 求矩阵 B 的特征值.

B. 选修 4—4: 坐标系与参数方程

设 a 为实数, 在极坐标系中, 已知圆 $\rho = 2a \sin \theta$ ($a > 0$) 与直线 $\rho \cos(\theta + \frac{\pi}{4}) = 1$ 相切, 求 a 的值.

C. 选修 4—5: 不等式选讲

求函数 $y = \sqrt{1-x} + \sqrt{3x+2}$ 的最大值.

【必做题】第 22 题、第 23 题，每题 10 分，共计 20 分。请在答卷纸指定区域内作答。解

答应写出文字说明、证明过程或演算步骤。

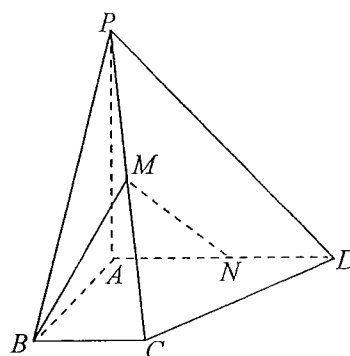
22. (本小题满分 10 分)

如图，在四棱锥 $P-ABCD$ 中， $PA \perp$ 平面 $ABCD$ ， $\angle ABC = \angle BAD = 90^\circ$ ， $AD = AP = 4$ ， $AB = BC = 2$ ， M 为 PC 的中点。

(1) 求异面直线 AP 与 BM 所成角的余弦值；

(2) 点 N 在线段 AD 上，且 $AN = \lambda$ ，若直线 MN 与平面 PBC 所成角的正弦值为 $\frac{4}{5}$ ，求

λ 的值。



(第 22 题图)

23. (本小题满分 10 分)

在平面直角坐标系 xOy 中，有一个微型智能机器人（大小不计）只能沿着坐标轴的正方向或负方向行进，且每一步只能行进 1 个单位长度，例如：该机器人在点 $(1, 0)$ 处时，下一步可行进到 $(2, 0)$ 、 $(0, 0)$ 、 $(1, 1)$ 、 $(1, -1)$ 这四个点中的任一位置。记该机器人从坐标原点 O 出发、行进 n 步后落在 y 轴上的不同走法的种数为 $L(n)$ 。

(1) 分别求 $L(1)$ 、 $L(2)$ 、 $L(3)$ 的值；

(2) 求 $L(n)$ 的表达式。