

第2关 中国民族资本主义的曲折发展

1. (2020.1·浙江高考·9) 近代中国民族工业产生后, 历经曲折, 风雨兼行。结合所学知识, 根据下列研究数据, 对此解读正确的是

1858—1911 年新设民用工矿企业及其创办资本统计表
(资本数单位: 万元)

	1858—1894 年		1895—1911 年	
	总数	年均	总数	年均
家数	153	4. 14	800	47. 06
资本数	3803	102. 78	16578	975. 18
每家资本	24. 86		20. 72	

- ①近代民族工业兴起与初步发展 ②民族工业形成完整的工业体系
③城市手工业有了一定程度发展 ④民族工业发展出现第一个高潮
A. ①③ B. ②③ C. ①④ D. ②④

2. (2020·全国II卷高考·28) 1894—1914 年, 外国在华企业投资总额有所增加, 各行业所占比例如图 9 所示。

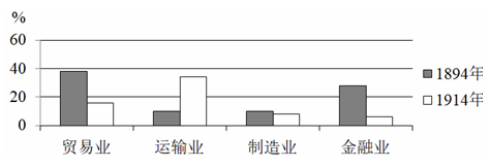


图 9 外国在华企业投资总额中各行业所占比例

据图 9 可知, 当时

- A. 运输业成为列强扩大权益的重要途径 B. 中国的对外贸易已由逆差转向了顺差
C. 国际资本垄断日益趋于和缓 D. 民族企业的市场竞争力提高
3. (2020·山东高考·8) 图 2 为 1906—1921 年日、英、德、俄四国在华商号数量变化示意图。其中①是

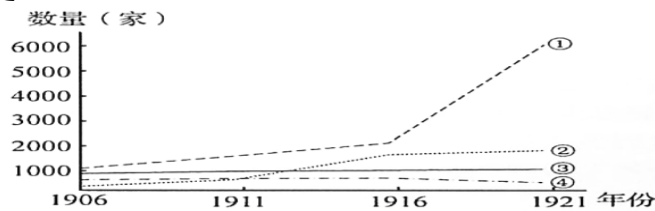
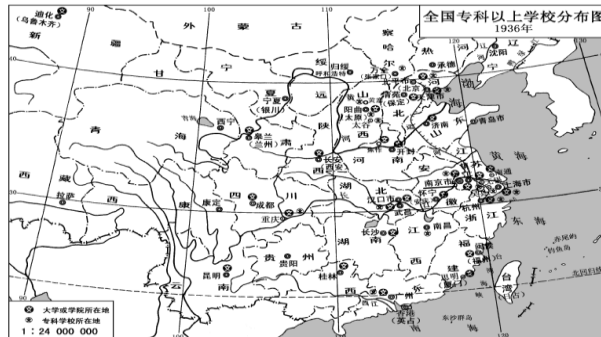


图 2

- A. 日本 B. 英国 C. 德国 D. 俄国
4. (2020·全国I卷高考·29) 20 世纪 20 年代, 中国度量衡的状况是, “同一秤也, 有公秤、私秤、米秤、油秤之分别” “同一天平也, 有库平、漕平、湘平、关平之分别” “同一尺也, 有海关尺、营造尺、裁衣尺、鲁班尺及京放、海放之分别”。这一状况
A. 提高了市场交易的成本 B. 加剧了军阀林立的局面 C. 造成国民经济结构失衡 D. 阻断了商品的大量流通
5. (2020·全国III卷高考·30) 1940 年代中后期, 中国许多工矿企业尽管账面上获得利润, 但难以维持再生产, 故“很多工厂把囤积原料作为主业, 反以生产作为副业”。这说明, 当时
A. 商业的繁荣带动了工业生产 B. 抗日战争的胜利推动生产恢复
C. 国统区的经济秩序遭到破坏 D. 国民党军阀混战扰乱经济发展
6. (2019·江苏·10) 民国时期, 有学者认为, “在发展过程中, 为着帝国主义间, 彼此有矛盾, 所以中国民族资本主义有某限度的蓬勃, 但总不能蓬勃到可以脱离半殖民地的地位”。在他看来
A. 民族资本主义在当时的中国没有发展空间 B. 民族资本主义发展依赖于帝国主义间矛盾
C. 民族独立以民族资本主义蓬勃发展为前提 D. 民族资本主义蓬勃发展以民族独立为前提
7. (2017·新课标全国III卷·28) 1897 年, 有人指出: “中国创行西法已数十年, 皆属皮毛, 空言无补。至今两年来, 忽大为变动, 如邮政、银行、铁路, 直见施行, 今天津亦有小

轮，风气之开，人力诚难阻隔也。”产生上述变化的主要原因是
 A 维新变法运动迅速兴起 B 政府大力扶持官督商办企业 C. 列强对华资本输出减少 D 政府放宽了兴办实业的限制

8. (2017·江苏·9) 中国的近代高等教育从无到有，逐步发展。依据下图(局部)可以推断：影响高等学校分布的主要因素是



A. 经济政治 B. 文化传统 C. 人口密度 D. 地理环境
 9. (2017 江苏 11) 据统计，1948 年外国在华投资总额约 31.97 亿美元，其中美国 14.10 亿美元，占总量 44.10%，英国 11.15 亿美元，占总量 34.88%，其他国家 6.72 亿美元，占总量 21.02%。由此可见

A. 英国的国际地位正在迅速地提高 B. 日本在投资总额中占有相当比例
 C. 外国资本已完全掌控中国的经济命脉 D. 美国在外国对华投资中处于优势地位

10. (2016·新课标全国 II 卷文综·30) 抗战胜利后，国民政府将日伪纺织企业合并，成立了国有的中纺公司。政府高层解释称，商民在抗战之后，对于所接收之敌伪纱厂，“即便有人承购，事实上仍需由政府予以维持，等于仍由政府自行拨款接办，国库并不因出售纱厂而有大量之收入”。这反映了此时期

A. 政府试图缓解民族工业困境 B. 国家实行对轻纺工业的统制
 C. 民族资本主义工业开始衰落 D. 政府在经济中主导地位加强

11. (2015·江苏单科·8) 下表展示了 1914~1920 年华商火柴厂的发展情况。

年代	进口火柴(万罗)	新厂数	厂均资本额(万元)
1914	2383.58	10	4.92
1915	2097.34	9	3.30
1916	2062.07	4	1.42
1917	1559.43	8	5.47
1918	1334.08	3	0.66
1920	848.43	23	9.67

对表中数据的解读正确的是

A. 辛亥革命直接导致了 1914~1915 年工业发展 B. 火柴进口量的递减影响着华商投资额的递增
 C. 火柴业发展折射出近代民族工业的某些特征 D. 反对“二十一条”推动了 1920 年的投资高潮

12. (2015·浙江文综·20) 荣德生等刊登宣言：“东(三)省沦亡，于今两月，我国民政府迁延无措……且于国际联盟中显示让步……同人等以匹夫有责之义，谨先发起‘国难自救会’之组织”，相约“监督政府之外交进行，对于一切有碍国家利益之行动，共抗争之。”这可以作为直接史料来说明

A. 国际联盟对日本侵略中国东北的迁就 B. 民族工业在夹缝中求生存的历史命运
 C. 近代实业家具有较强的民族救亡意识 D. 国民政府对日本侵华采取不抵抗政策

13. (2014·安徽文综·15) “吾国纱厂事业，自欧战起后，获利甚厚，国人鉴于利之所在，

均争相投资，设厂增锭，大有风起云涌之概。迨欧战告终，本纱之输出杜绝，外纱复纷至沓来，遂致连年市价，一蹶不振。”据此判断，第一次世界大战后中国棉纺织业“一蹶不振”的原因有

①世界棉纺织业渐超趋萎缩②西方列强经济侵略③官僚资本挤压民族企业 ④商人投资规模过度

- A. ①③ B. ②④ C. ①④ D. ②③

14. (2014·海南单科·16)晚清时期清政府实行专利制度，允许企业享有长时间生产经营垄断权。1912年北京政府规定专利保护期限最高为5年。后财政总长周学熙等为其所设公司申请30年的专利权时，未获批准。这反映了民国初期

- A. 建立了系统完善的经济法制体系 B. 经济立法鼓励工商业自由竞争
C. 中央政府限制官营商业的发展 D. 经济法规得以完全遵照执行

15. (2013·安徽文综·15)图3显示以下年份外国资本、官僚资本和民族资本在中国产业资本总额中所占比例。据此分析，下列表述正确的是

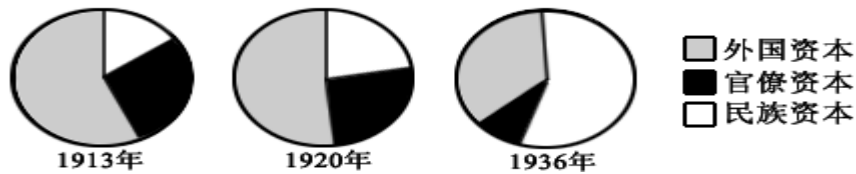


图3

- A. 民族资本主义处于初步发展阶段 B. 民族资本依然受到外国资本挤压
C. 国民政府的官僚资本体系开始崩溃 D. 国际局势决定着中国产业资本发展

16. (2013·福建文综·19)表1是1912—1915年外资在华创办工厂数量变化表。影响变化的因素除一战外，还包括

年份	1912	1913	1914	1915
工厂数(家)	46	46	12	2

- A. 自然经济最终解体 B. 实业救国开始兴起 C. 国货运动的推动 D. 新文化运动的直接冲击

17. (2012·全国课标卷·30)1895年，身为状元的张謇开始筹办纱厂，他称自己投身实业是“捐弃所恃，舍身喂虎”。这反映出张謇

- A. 毅然冲破视商为末业的传统观念 B. 决心投入激烈的民族工商业竞争
C. 预见到国内工商业发展前景暗淡 D. 具有以追求利润为目的的冒险精神

18. (2011·山东文综·11)表2为中国工业发展初期(1872—1911年)设立的厂矿数量统计表。其中，纺织业的数量最有可能是

行业	矿冶业	机器业	纺织业	食品工业	其他工业
数量(家)	72	3	?	100	153

- A. 2 B. 31 C. 73 D. 193

19. (2011·海南单科·19)一位历史学家在回忆南京解放前夕的生活时称：“中央大学每月发薪水的那一天，可以说是最紧张的一天。各人在会计处拿到薪水，就得赶紧奔向新街口换成银元，立刻嘘嘘地赶到米市买米。”这反映了

- A. 纸币无法用于购买粮食 B. 市场上粮食和食品奇缺
C. 囤积银元和粮食现象普遍 D. 银元币值较纸币稳定

20. (2009·海南历史·19)表2 1937、1942年国民政府统治区重工业状况表

年份	占工厂总数比例	占工业资本总额比例	占工人总数比例
1937年	16%	4.4%	7.3%
1942年	58%	78%	49%

表2所示各种比例发生变化的主要原因是

- A. 抗日战争的影响 B. 抗日根据地扩大 C. 国际援助的增多 D. 民营工业的发展